

## TEMA 6. LA TERRA, EL NOSTRE PLANETA

### LA TERRA

- Moviments

-La terra gira sobre si mateixa → **moviment de rotació**

-1 volta sobre si mateixa → 1 dia  
24 hores



- El dia i la nit

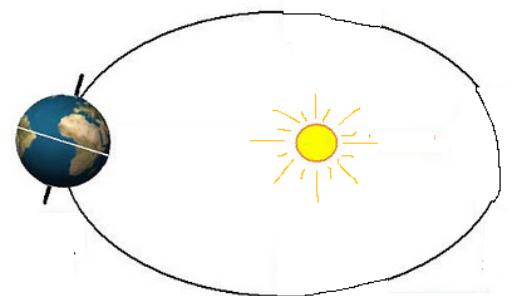


-La cara que il.lumina el sol és de **dia**

-La cara fosca que no veu el sol és de **nit**

-La terra gira al voltant del sol → **moviment de translació**

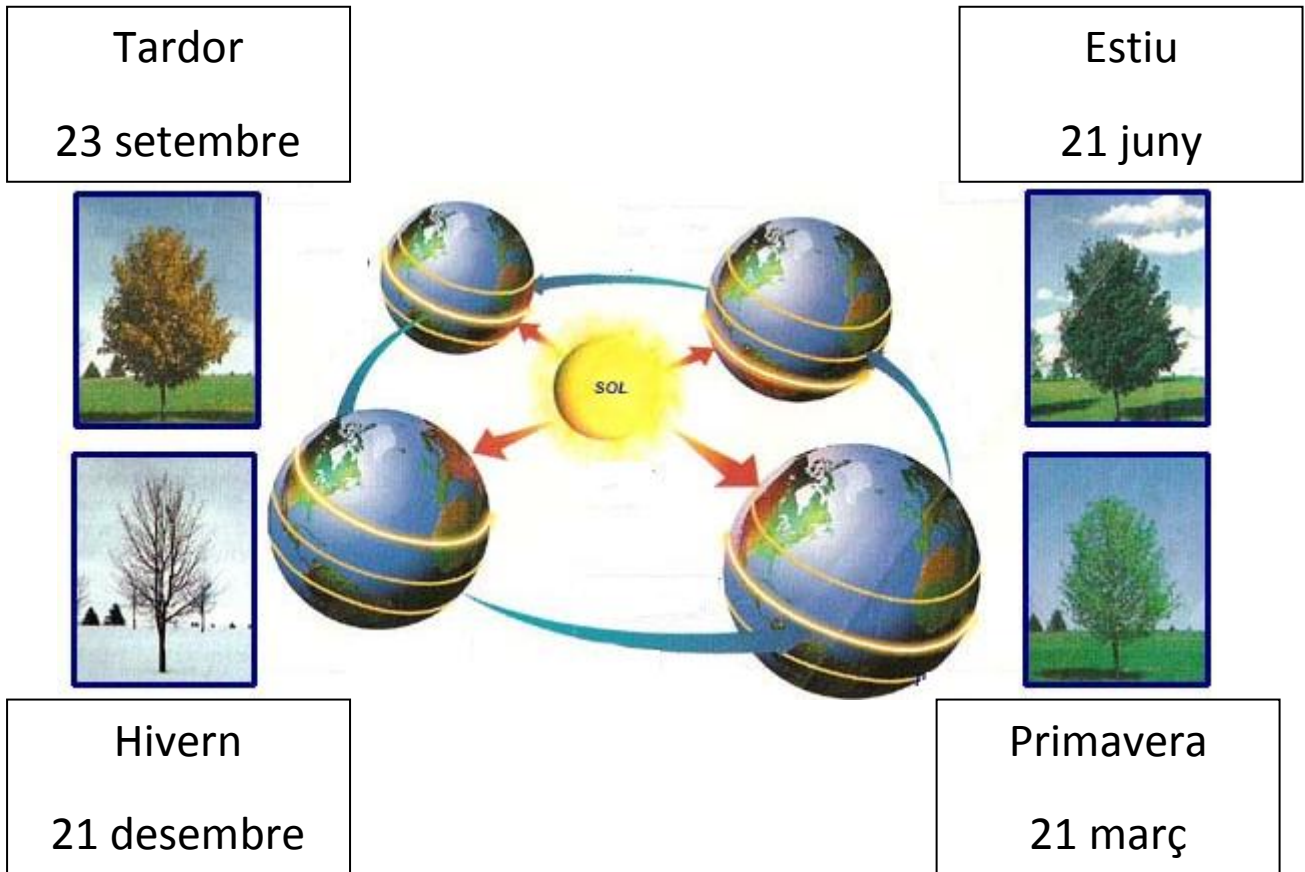
-1 volta sobre el sol → 1 any  
365 dies



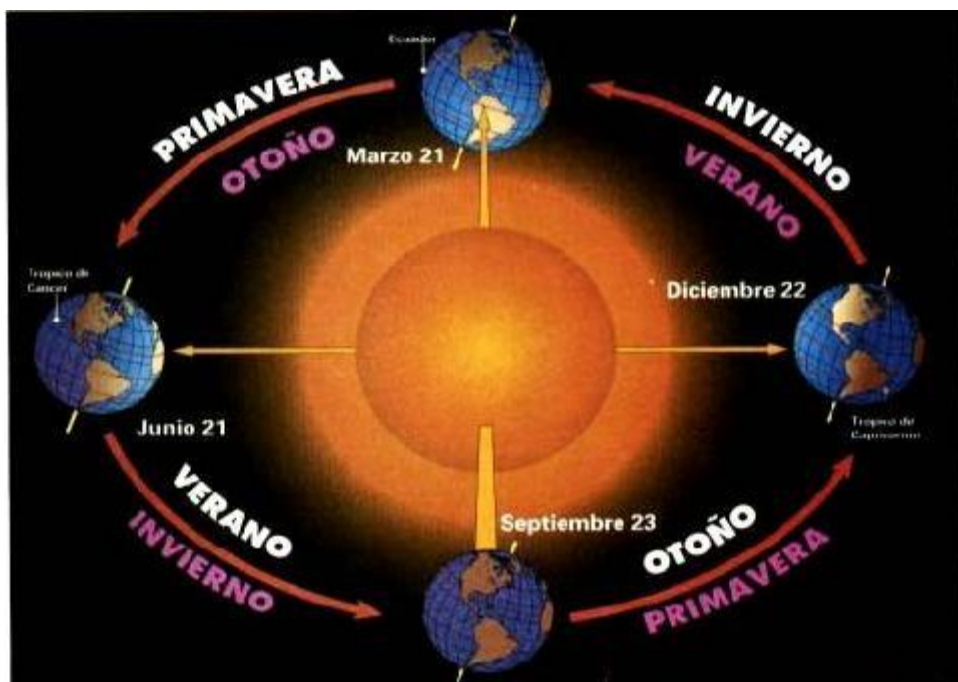
- Les estacions

-La Terra està inclinada mentre gira al voltant del sol, aixó fa que les diferents zones reben més o menys llum i calor.

-A la meitat nord de la Terra les estacions comencen:

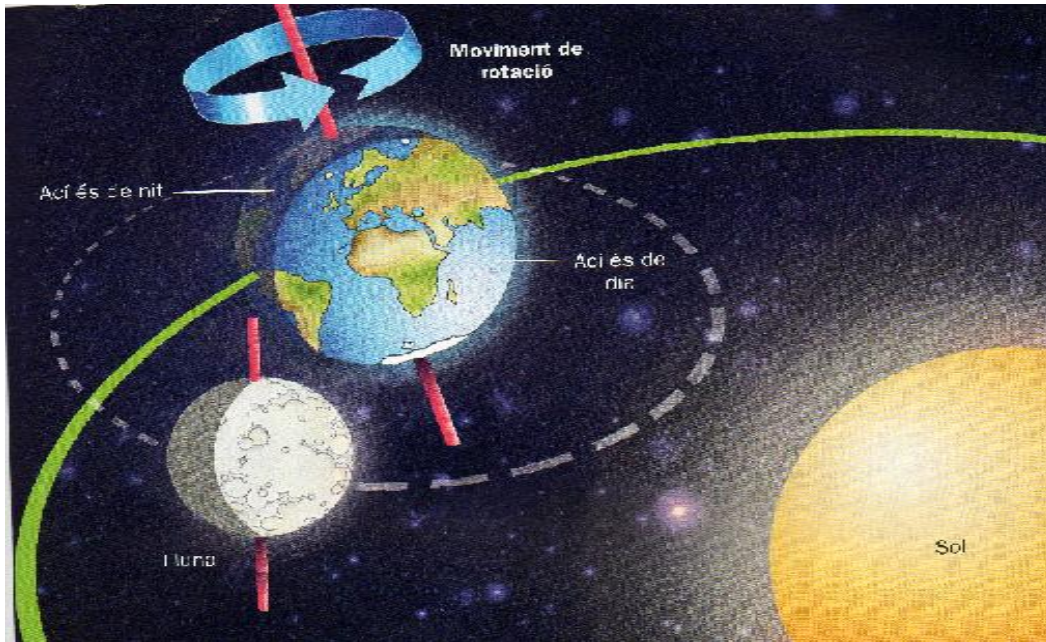


-A la meitat sud:



# LA LLUNA

- És un satel.lit
- Gira al voltant de la Terra.




Des de la Terra sols veiem la part de la Lluna que està il.luminant el sol


→ Fases lunars



Lluna nova



Quart creixent



Lluna plena



Quart minvant

## TEMA 6. LA TERRA, EL NOSTRE PLANETA

### LA TERRA

- Moviments

-La terra gira sobre si mateixa → **moviment de .....**

-1 volta sobre si mateixa → .....

.....



- El dia i la nit



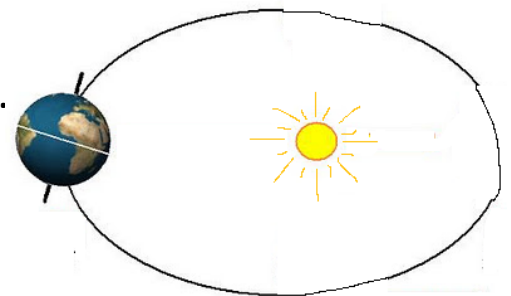
-La cara que il.lumina el sol és de .....

-La cara fosca que no veu el sol és de .....

-La terra gira al voltant del sol → **moviment de .....**

-1 volta sobre el sol → .....

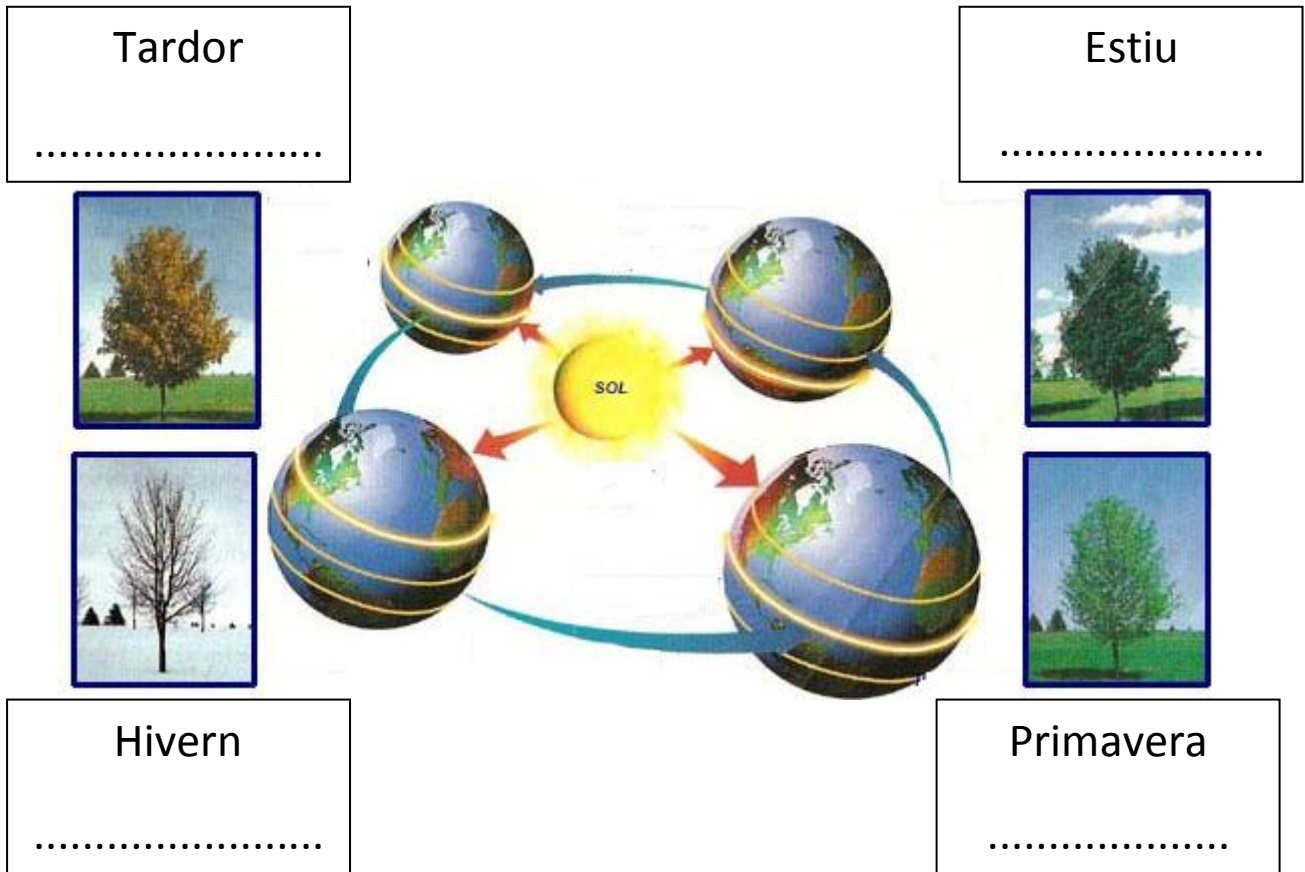
.....



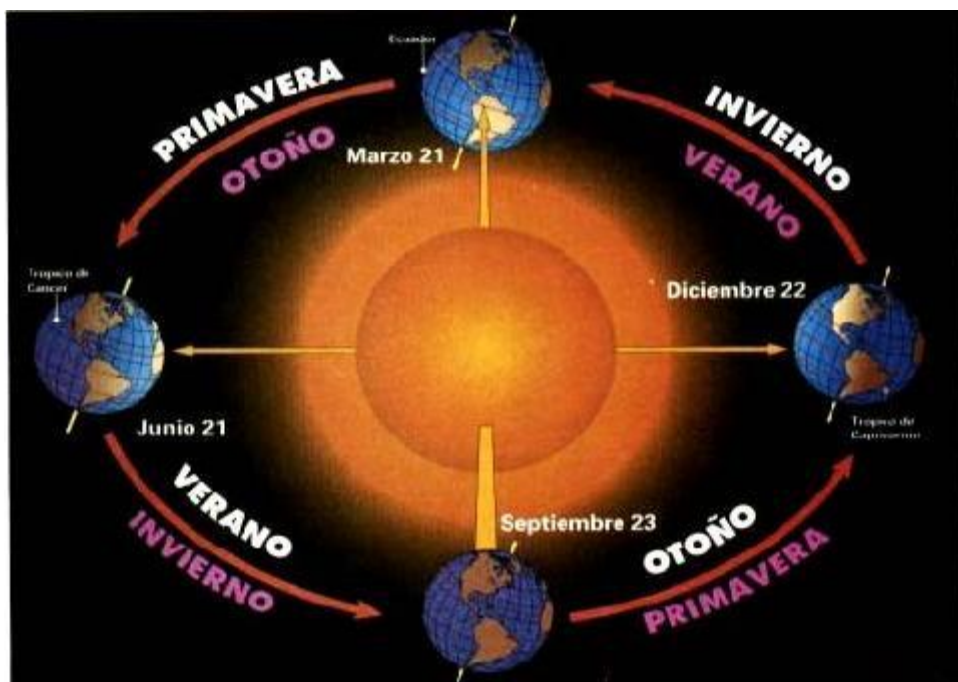
- Les estacions

-La Terra està inclinada mentre gira al voltant del sol, aixó fa que les diferents zones reben .....

-A la meitat nord de la Terra les estacions comencen:

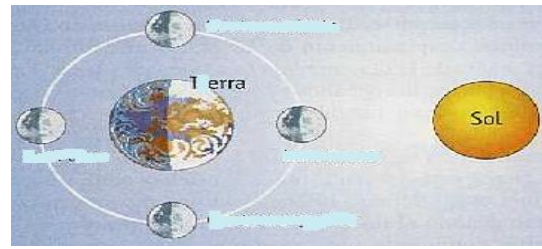


-A la meitat sud:




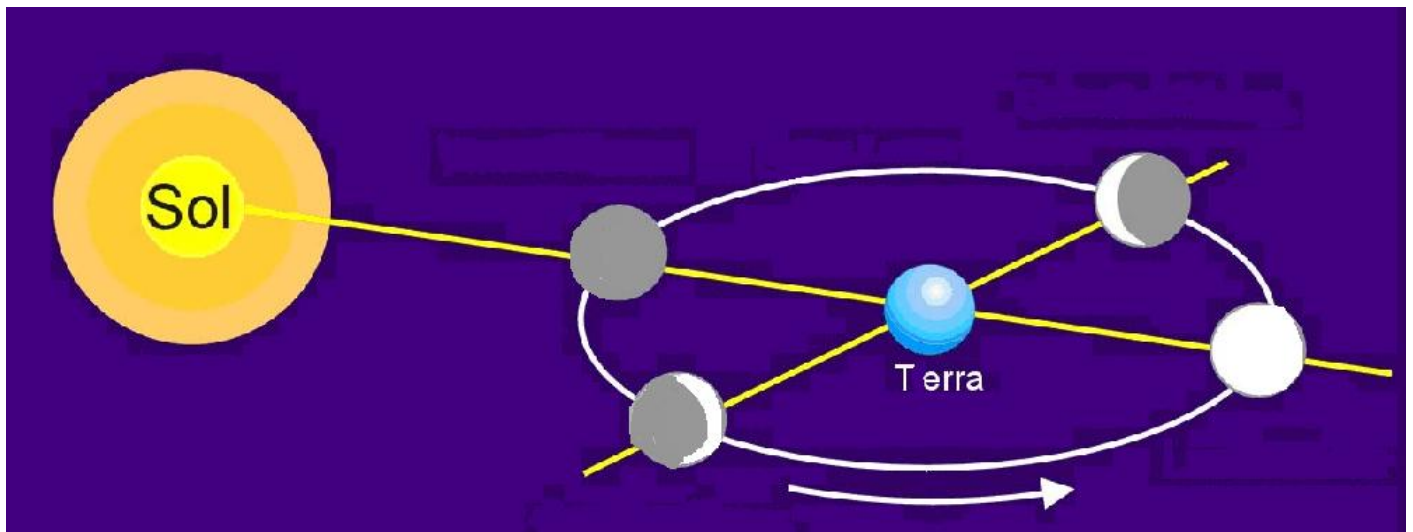
# LA LLUNA

- És un .....
- Gira .....



Des de la Terra sols veiem la part de la Lluna que està il.luminant el sol

→ Fases lunars



.....

## TEMA 6. LA TERRA, EL NOSTRE PLANETA

### LA TERRA

- Moviments

-La terra gira ..... —————> **moviment de** .....

-1 volta sobre si mateixa —————> .....

.....



- El dia i la nit



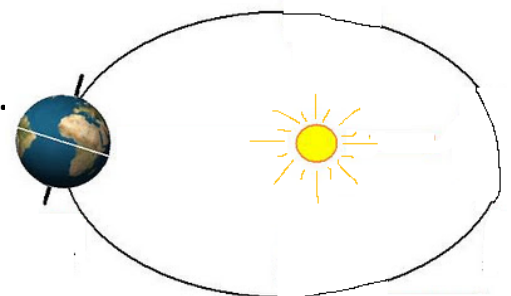
-La cara que il.lumina el sol és de .....

-La cara fosca que no veu el sol és de .....

-La terra gira ..... —————> **moviment de** .....

-1 volta sobre el sol —————> .....

.....



- Les estacions

-La Terra està inclinada mentre gira al voltant del sol, aixó fa que les diferents zones reben .....

-A la meitat nord de la Terra les estacions comencen:

.....  
.....

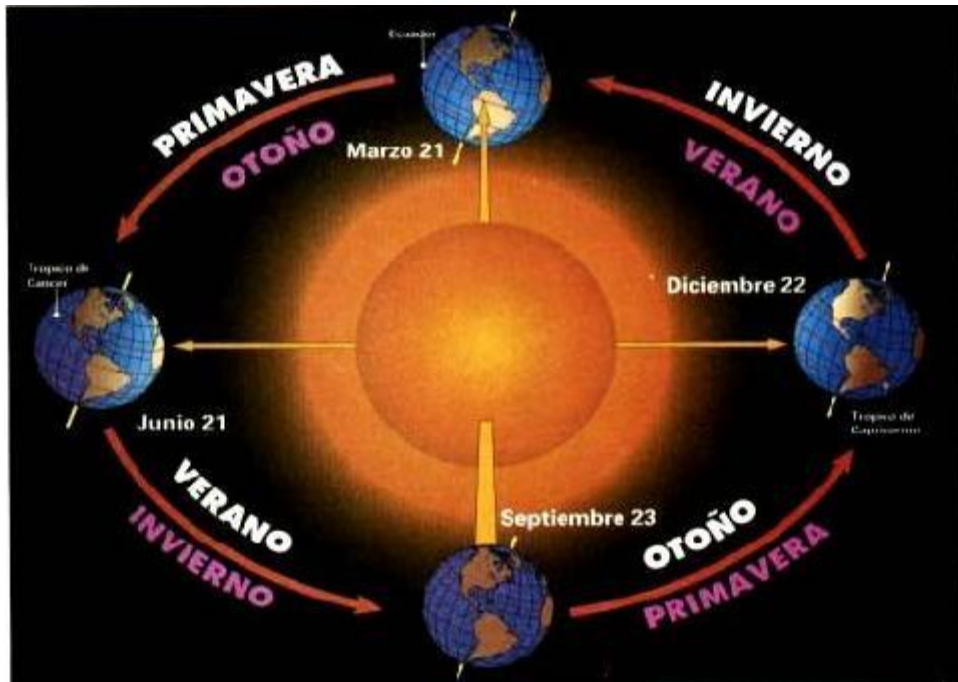
.....  
.....



.....  
.....

.....  
.....

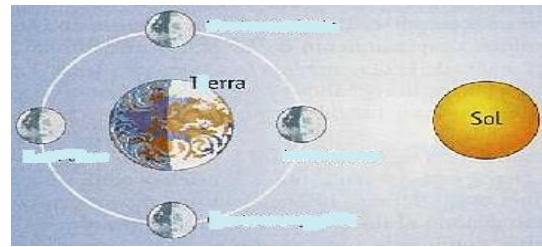
-A la meitat sud:






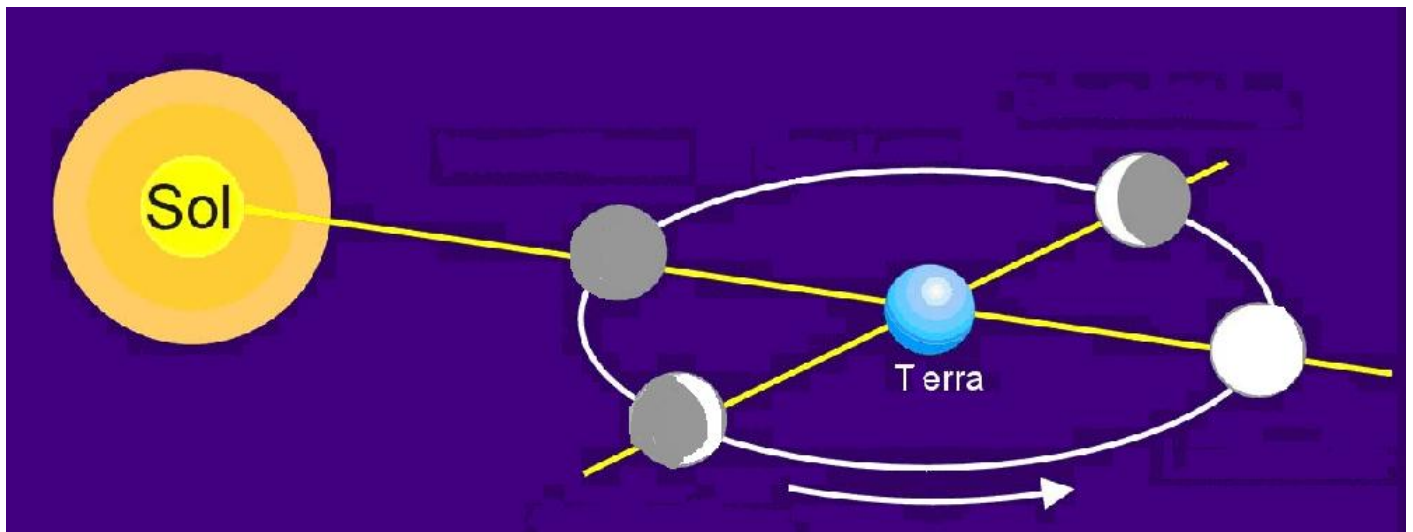
# LA LLUNA

- És un .....
- Gira .....



Des de la Terra sols veiem la part de la Lluna que està il.luminant el sol

→ .....



.....

# TEMA 6. LA TERRA, EL NOSTRE PLANETA

## LA TERRA

- Explica el moviment de rotació:

.....

- Explica el moviment de translació:

.....

- Quant tarda el moviment de rotació?.....

- A qué dona lloc? .....

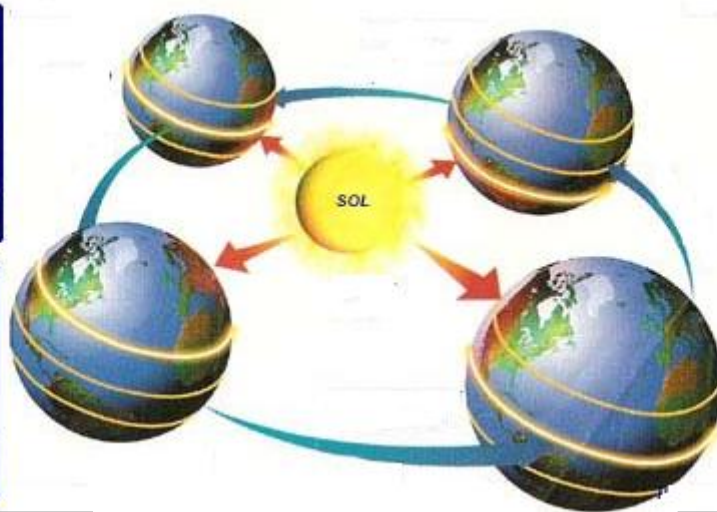
- Quant tarda el moviment de translació?.....

- A qué dona lloc?.....

-A la meitat nord de la Terra les estacions comencen:

.....  
.....

.....  
.....



.....  
.....

.....  
.....

-A la meitat sud:

.....  
.....

.....  
.....



.....  
.....

.....  
.....


## LA LLUNA

- És un .....
- Gira .....

Des de la Terra sols veiem .....

.....

→ .....



.....      .....      .....      .....

NOM:.....

1.- Explica el moviment de rotació:

.....

2.- Explica el moviment de translació:

.....

3.- Quant tarda el moviment de rotació?.....

A qué dona lloc? .....

4.- Quant tarda el moviment de translació?.....

A qué dona lloc?.....

5.- A la meitat nord de la Terra les estacions comencen:

..... → .....  
..... → .....  
..... → .....  
..... → .....

6.- Escribe las estacions a la meitat nord i a la meitat sud

..... .....	..... .....	..... .....	..... .....
----------------	----------------	----------------	----------------


7.- Què és la lluna?.....

Quin és el seu moviment? .....

8.- Què són les fases llunars? .....

.....

9.- Anomena les fases llunars:



.....

10.- Anomena els planetes del sistema solar:

1.....

2.....

3.....

4.....

5.....

6.....

7.....


8.....

9.....

# El Sistema Solar



SISTEMA SOLAR

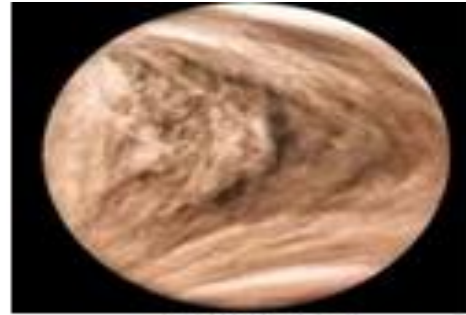




SOL




MERCURI



VENUS



TERRA



MART




JUPITER



SATURN



URA

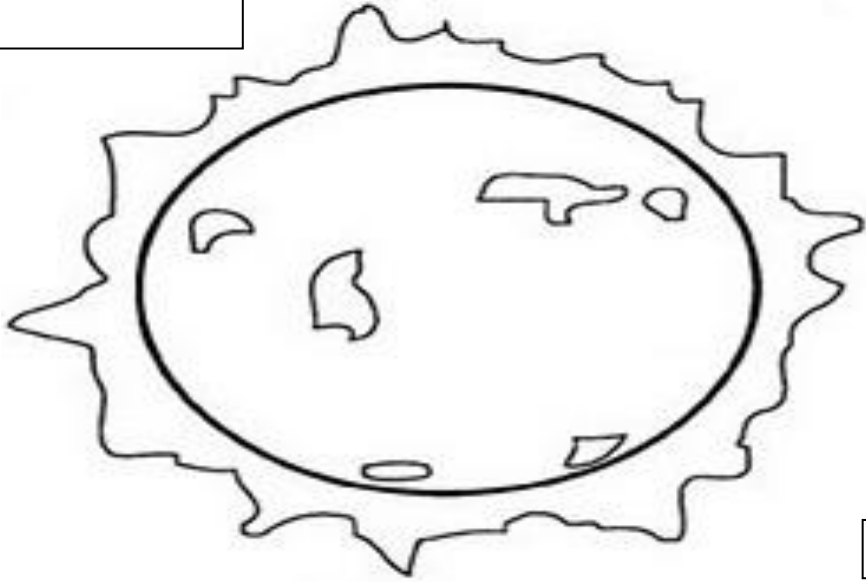


NEPTU



PLUTO

[ ]

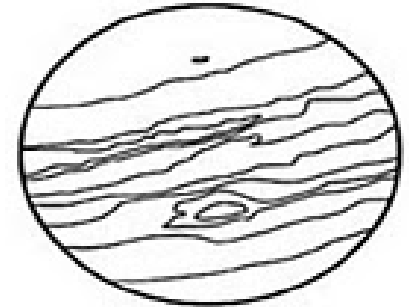


[ ]



[ ]

[ ]



[ ]



[ ]

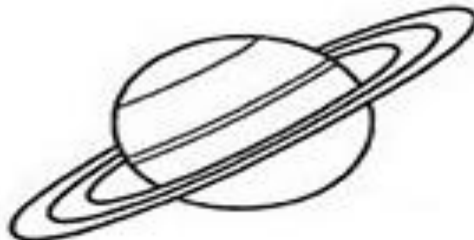


[ ]

[ ]



[ ]



[ ]