



TEMA 10


5 AGUA

Autor pictogramas: Sergio Palao **Procedencia:** ARASAAC
<http://catedu.es/arasaac/> **Licencia:** CC (BY-NC)
Fotos e imágenes: Varios autores **Procedencia:** albumes Picasa

..... Ana Vallés Medrano
HFUXi Wxc`dcf`5a Y`JU`@J[c`5bX]CB`



5 AGUA



QuY 'f3

1.v un líquido

2.5 hCÉUgY 'bc:


Onde se atopa?



mar



rio



lagos



nubes

sal [UXU

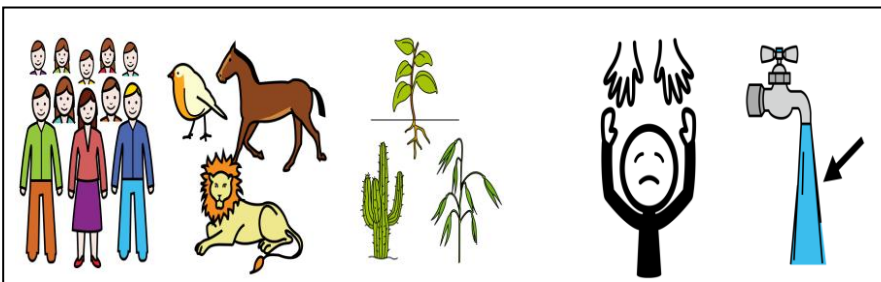


dcW




beber

regar



Persols, anima]s plantas necesitamos U agua



para

vivir

é importante cc]XUU

1.- QuY f U agua?

.....

2.- Cnde podemos UhcdUf ai ga?

.....

3.-Ccmo f U ai ga dc mar?

4.-Ccmo f U ai ga dos ríos?

5.-Ccmo f U ai ga dos lagos?

6.-Ccmo f U ai ga das nubes?

7.-QuY ai ga podemos beber : U ai gua dcce oi U ai ga sal[Uda?

.....

8.- Qi fn necesita ai ga para vivir?

.....

3. C ciclo dU agua

DUg'bi VYg cae
Wuvia Y neve.

Parte dese vapor
UffYZf#UgY Y convfrtegY
en gotas pequenas que
Zcfa Ub'Ug'bi VYg"



1.- Ordena:



1. O calor do sol
evapora a água dos
mares e rios.



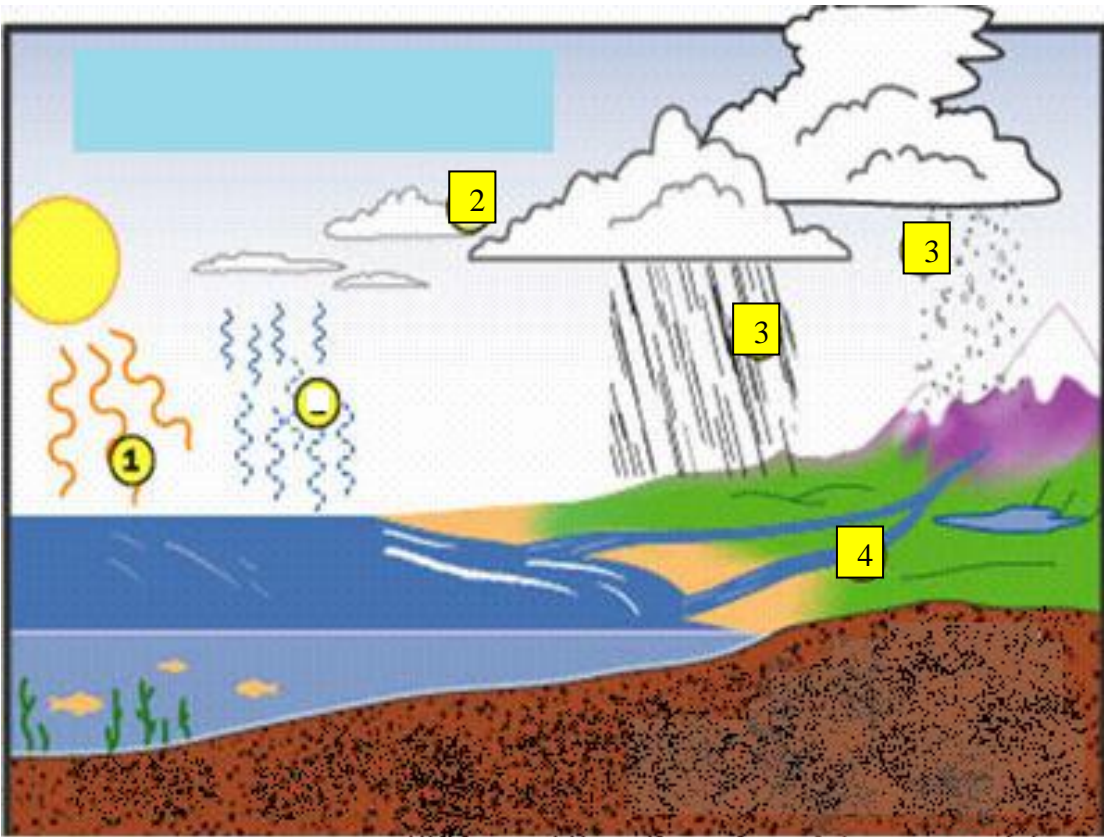
2. O vapor
de água se condensa
e forma nuvens.



3. Com o resfriamento
do vapor de água,
ele se condensa e
forma gotículas de água.



4. A água, ao voltar
para os mares e rios.



2.- Escribe c' que significa cada número:


1
.....

2
.....

3
.....

4
.....

3.- Ordena.



REPASO TEMA 10

1.- E i Y'f U ai ga?

.....

2.- Cnde podemos UhcdUf Ui [U?

.....

3.- 7cmo 'f'U'Ui [U'Xc'mar?

4.- 7ca c'f'U'Ui [U'Xcg ríos?

5.- 7ca c'f'U'Ui [U'Xcg lagos?

6.- 7ca c'f'U'Ui [U das nubes?

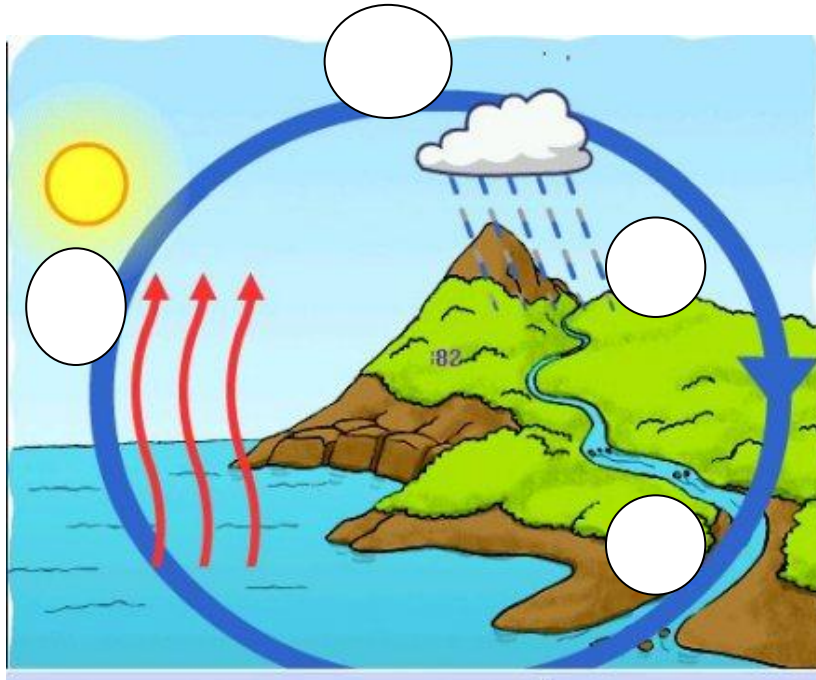
7.- E i Y'Ui [U podemos beber : Ui [U dcce oi sal[ada?

.....

8.- E i Yb'byWg]hU'Ui [U para vivir?

.....

9.- Explica c ciclo dU ai ga. Ordena Y escribe o que significa cada número:



1
.....

2
.....

3
.....

4
.....

EXAME TEMA 10. 5 AGUA

NomY:..... Curso:.....

1.- E i Y f U Ui [U?

.....

2.- C b XY podemos UhcdUf Ui [U'gU [UXU?

.....

3.- C b XY dcXYa cg UhcdUf Ui [U'XcW?

.....

4.- E i Y Ui [U podemos beber?

.....

5.- E i Yb necesita agua para vivir?

.....

6.- Explica c ciclo dU ai ga. Ordena Y escribe o que significa cada número:

1

.....

2

.....

3

.....

4

.....

