

Arregle los números del **1** al **7** en los cuadros de modo que la suma o la diferencia sea correcta

—

9		

	8	
--	---	--

1 0 0

Arregle los números del **1** al **7** en los cuadros de modo que la suma o la diferencia sea correcta

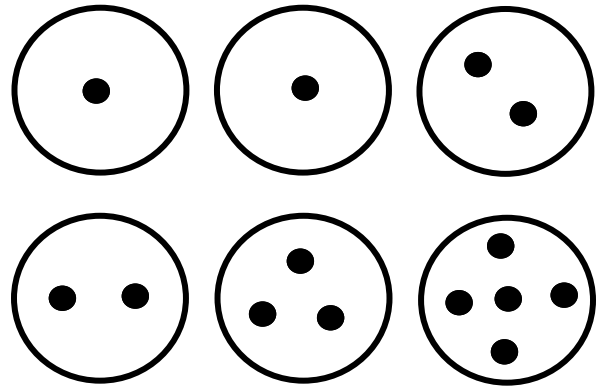
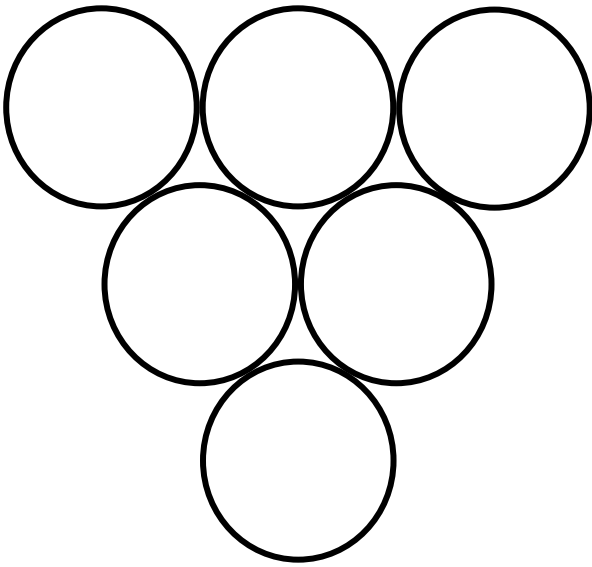
—

9		

	8	
--	---	--


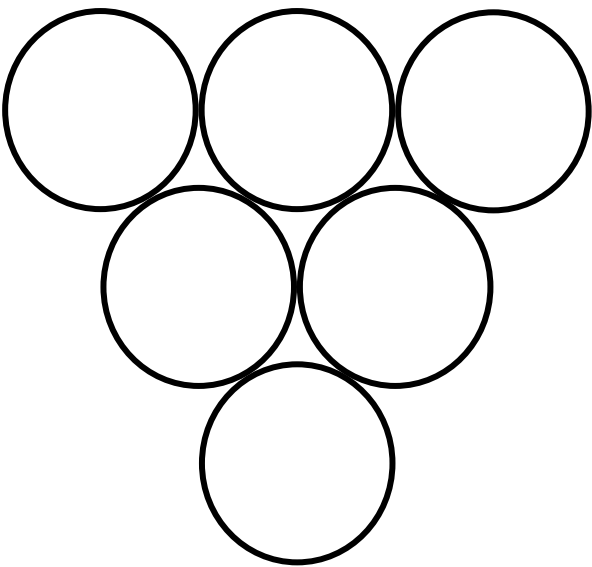
1 0 0

PATRONES DE BILLAR



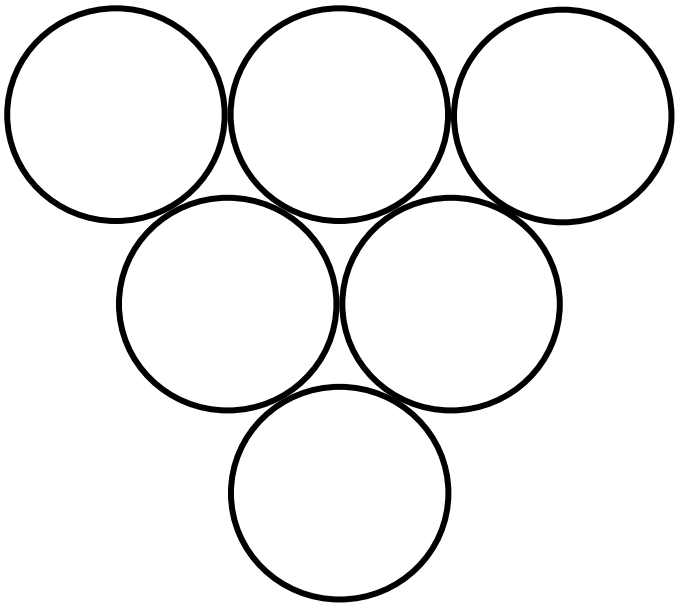
Ponga los círculos con lunares dentro de los círculos mas grandes, de tal manera que cada círculo tenga la suma de los dos círculos que están encima de él.

PATRONES DE BILLAR



Ponga los círculos con lunares dentro de los círculos mas grandes, de tal manera que cada círculo tenga la suma de los dos círculos que están encima de él.

PATRONES DE BILLAR 2

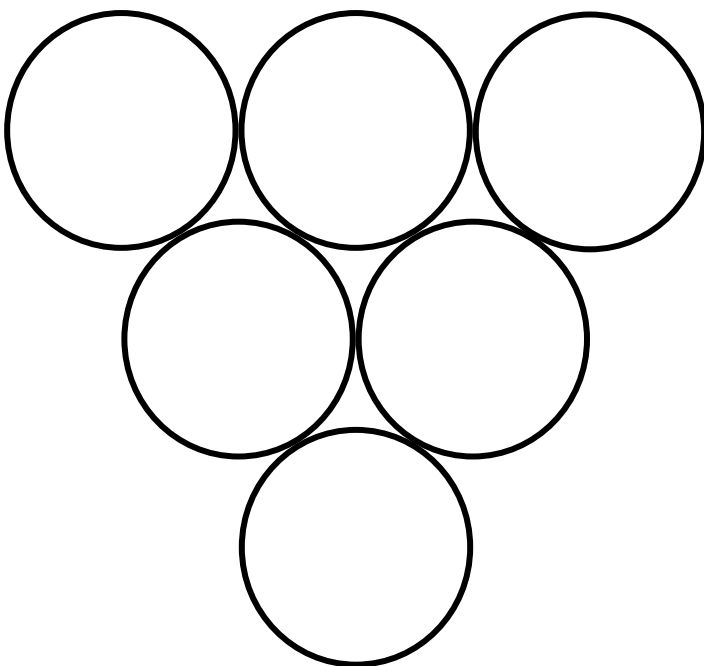


Dispón los números del 1 al 6 de manera que cada círculo muestre la diferencia entre los dos números contiguos sobre él.

Ejemplo 3 es la diferencia entre 5 y 2.

Estaciones Matemáticas
CEMAT

PATRONES DE BILLAR 2



Dispón los números del 1 al 6 de manera que cada círculo muestre la diferencia entre los dos números contiguos sobre él.

Ejemplo 3 es la diferencia entre 5 y 2.

Estaciones Matemáticas
CEMAT