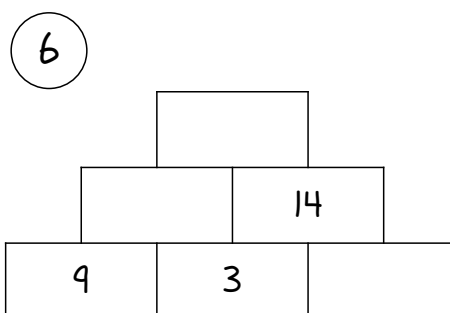
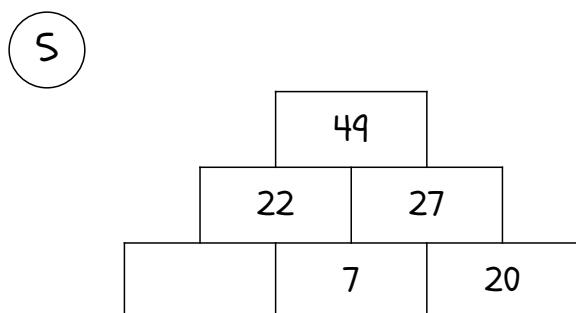


3 En el supermercado hay 5 cartones de huevos como este. ¿Cuántos huevos hay en la tienda?

4 Tengo  Gasto  Me queda



7 Son las
3 horas
antes eran

A las 8 y media
me voy a dormir.
Dibújalo en el
reloj

8 Completa los números que faltan las

1				5		7		9	
11				15		17		19	
						27			
31		33							
		43							

9 $37 + 12 = \underline{\quad}$

10 $35 + 5 = \underline{\quad}$

$2 + 18 = \underline{\quad}$

$4 + 2 = \underline{\quad}$

1

Tengo 



Me he gastado 15 € ¿Cuánto dinero me queda?

Evaluación

Lun Mar Miér Jue Vie Sáb Dom

1	2	3	4	5	6	7
8	9	10	11	12	13	14
15	16	17	18	19	20	21
22	23	24	25	26	27	28
29						

Observa el calendario y contesta:

2 El primer domingo del mes es el día.....

3 ¿Qué día de la semana es el último día del mes?.....

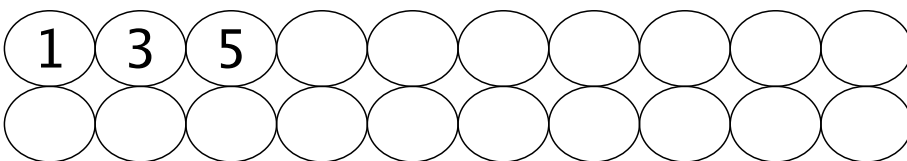
4



Un mallas de naranjas tiene 5 naranjas. ¿Cuántas naranjas hay en 8 mallas?

5

Completa los números hasta el 40.

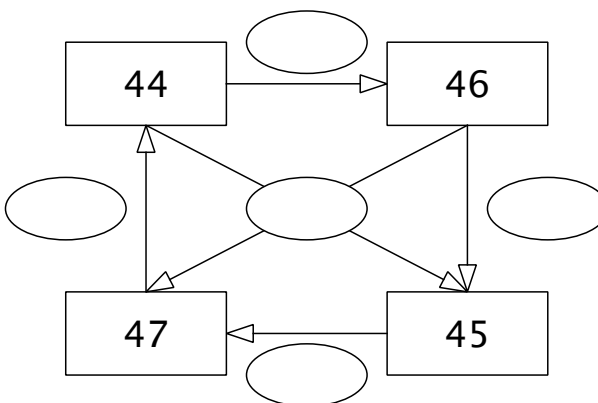


6

	0
3	
	36
26	21
39	
46	
	40

7

Completa las operaciones que hay que hacer para que se cumplan las igualdades.



8

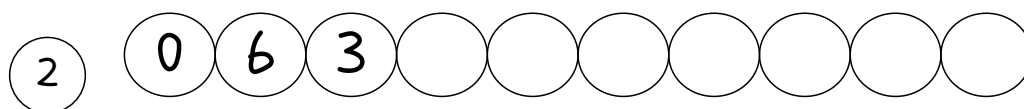
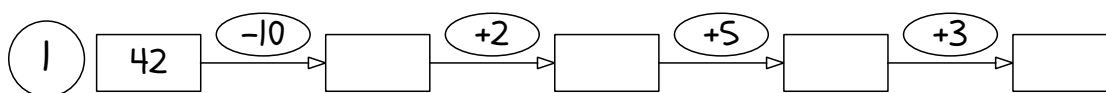
14 + 26 = ____

36 - 4 = ____

9

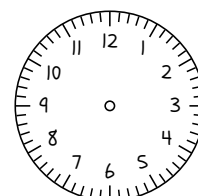
24 + 22 = ____

20 - 2 = ____

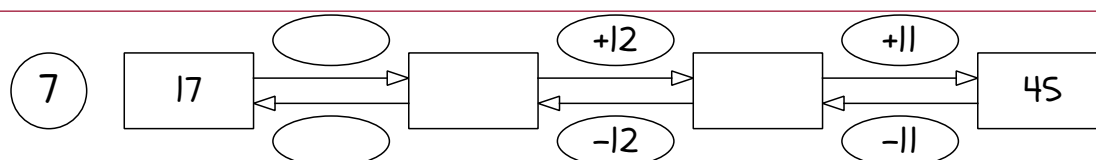
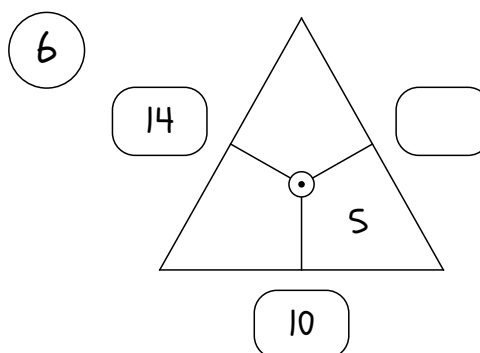
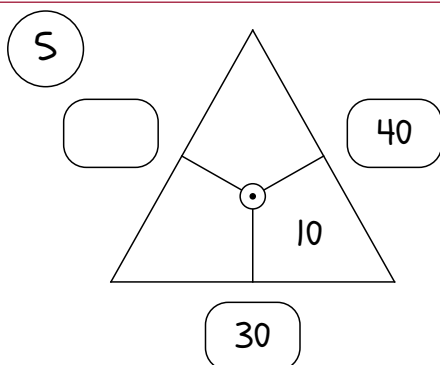


Sigue la serie +6, -3

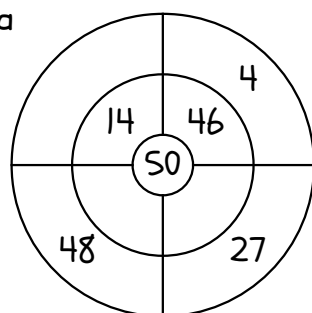
3 A las 7 y media de la mañana nos levantamos.
¿Puedes escribir la hora?



4 Número compuesto por 4 decenas y ninguna unidad
Número anterior a 50
Un número menor de 30 pero mayor de 25



8 Completa para que la suma sea correcta



9

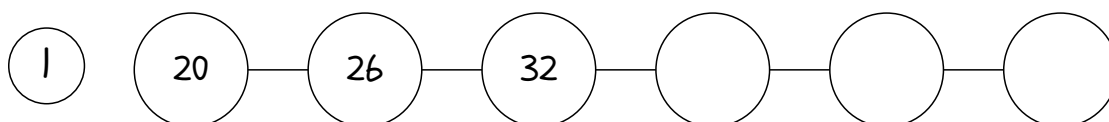
17	28
	23
31	
8	
	27

10 $19 - 13 = \underline{\quad}$

$\underline{\quad} + 26 = 49$

$38 + 4 = \underline{\quad}$

$\underline{\quad} - 1 = 48$

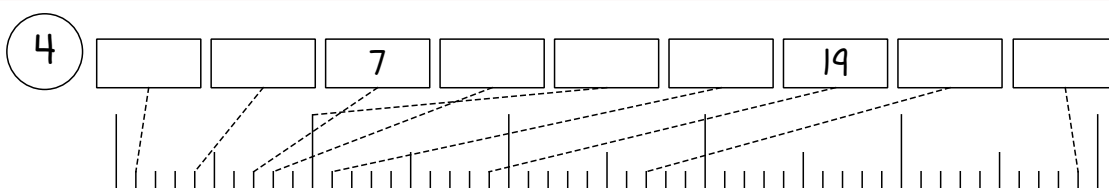


2 Escribe los números de 5 en 5 empezando desde el 0


2

--	--	--	--	--	--	--	--	--	--	--	--	--	--	--	--	--	--	--	--

3 Un coche tiene 4 ruedas ¿Cuántos coches hacen falta para tener 20 ruedas?



6 Pinta de rojo el primer círculo, de azul el quinto y de verde el último.



7 De qué color son:



El segundo:

El octavo:

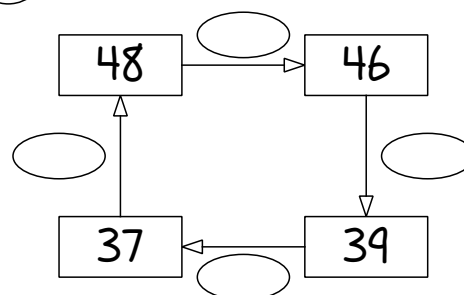
El penúltimo:

8

		36	
		24	
44		3	
		31	
		35	

9

Completa las operaciones que faltan.



10

$$42 - 33 = \underline{\quad}$$

$$15 + 29 = \underline{\quad}$$

$$34 + 7 = \underline{\quad}$$

$$30 - 22 = \underline{\quad}$$