



Nombre:

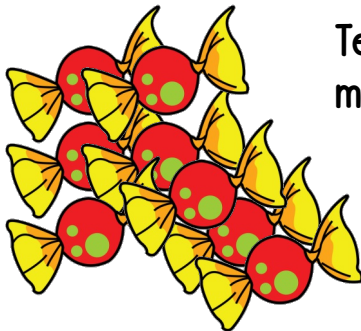
Fecha:



Tengo 6 huevos en una huevera y gasto 2. ¿Cuántos huevos me quedan?



He gastado 5 céntimos en un caramelo. ¿Cuánto dinero me queda?



Tengo 8 caramelos en una bolsa y mi madre me da 2 más. ¿Cuántos tengo ahora?



Esta mañana en el supermercado he comprado 3 sacos de naranjas como este. ¿Cuántas naranjas he comprado?




Este coche ha perdido una rueda por la carretera. ¿Cuántas ruedas le quedan?



Nombre:

Fecha:



Hay 5 camellos caminando por el desierto. Dos de ellos se van. ¿Cuántos quedan?



Rosa tiene 13 canicas. Pedro le gana 3 canicas. ¿Cuántas canicas le quedan a Rosa?

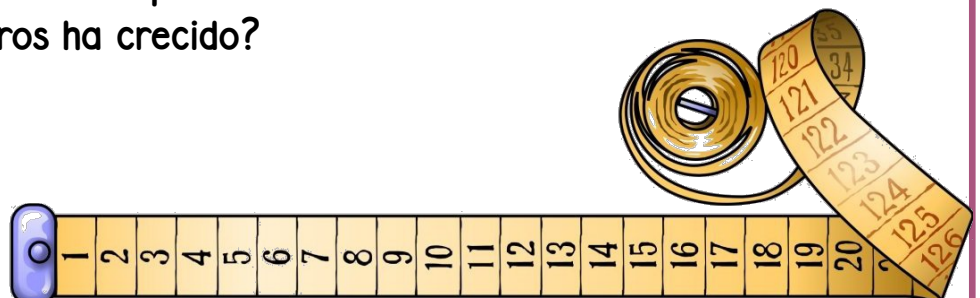


Hay 18 alumnos en clase, 7 terminan sus tareas y se van a la biblioteca. ¿Cuántos alumnos quedan en clase?



Pedro ha metido 3 goles. Si su equipo ya había metido 5 goles. ¿Cuántos goles han metido en total?

Mi mano mide 15 cm. El año pasado medía 12 cm. ¿Cuántos centímetros ha crecido?






Nombre:

Fecha:


ZOO



En el mini zoo de mi pueblo hay 17 animales. Dos se han ido al veterinario. ¿Cuántos animales quedan en el zoo?



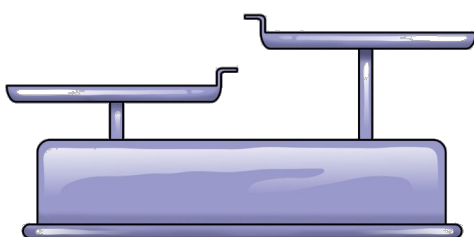
¿Cuántos dedos hay en 4 manos?



De los huevos que hay en la huevera ya he gastado 2 en una tortilla y 3 en un bizcocho. ¿Cuántos huevos quedan?



Mi padre ha comprado una caja de 20 botellines de fanta. En la fiesta de cumpleaños hemos gastado 12. ¿Cuántas botellas nos quedan?



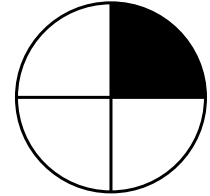

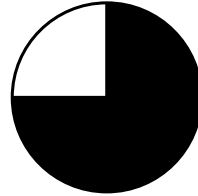
Esta mañana hemos ido al médico mi hermana y yo. El médico nos ha pesado. Yo pesaba 15 kg y mi hermana 20 kg. ¿Quién pesa más? ¿Cuánto más?



Nombre:

Fecha:

María me ha pedido que le de la mitad de mi bocadillo. Rodea la imagen que representa la mitad.



En casa tenemos un baúl con zapatos. He contado 4 pares. ¿Cuántos zapatos hay?



La entrada del cine cuesta 5 €. Si vamos mis padres y yo. ¿Cuánto nos costará?



Con un litro de leche podemos desayunar 4 personas. Este fin de semana seremos 8 en casa. ¿Cuántos litros le leche necesito?




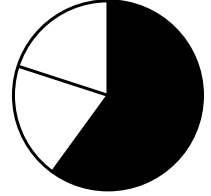
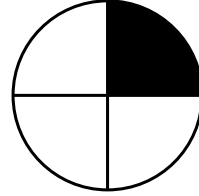
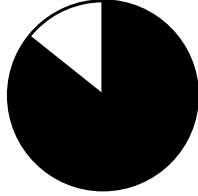


De los 10 chicles que había en el paquete, he repartido la mitad. ¿Cuántos chicles me quedan?



Nombre:

Fecha:

Rodea todas las imágenes que representen más de la mitad.



He tirado los 3 dados y he obtenido un 2, un 4 y un 6.
¿Cuánto suman en total?



De los 20 alumnos que somos en clase, 5 están en casa con varicela. ¿Cuántos quedamos en clase?



La semana pasada fuimos a la nieve. Fuimos el sábado y nos quedamos hasta el martes. ¿Cuántos días estuvimos?

Esta abejita trabaja sin cesar. Ha llevado 15 cubos de rico polen al panal. Ayer ya llevó otros 5. ¿Cuántos cubos ha llevado entre los dos días?






Nombre:

Fecha:

Mi canción favorita de Youtube dura 4 minutos. Ya la he escuchado 4 veces.
¿Cuántos minutos he estado escuchándola?



Esta mañana he dado 10 vueltas al parque con mi bici. Ayer di 4 y el miércoles 5. ¿Cuántas vueltas he dado en total?



La lavadora tarda 2 horas en hacer su lavado. Empezó a las 10:00, ¿a qué hora podré tender la ropa?



Hoy me han puesto el penúltimo de la fila. Puedes indicar que alumno soy?

Me han dado todo este dinero estas Navidades.
¿Me ayudas a contar cuanto dinero tengo?

