

NUMERACIÓN DEL 101 AL 120

101	102	103	104	105	106	107	108	109	110
111	112	113	114	115	116	117	118	119	120

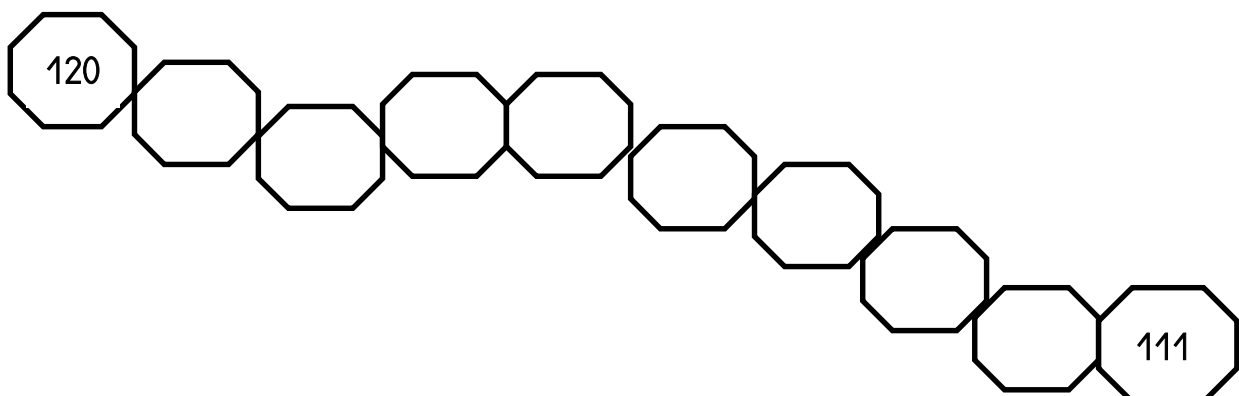
1) *Completa la tabla con los números que falten:*

101					106			109	
		113				117			120

2) *Coloca en la siguiente tabla el número anterior y el posterior:*

número anterior		número posterior
	113	
	118	
	104	
	100	
	115	

3) *Completa la siguiente serie descendente:*



NUMERACIÓN DEL 101 AL 140

101	102	103	104	105	106	107	108	109	110
111	112	113	114	115	116	117	118	119	120
121	122	123	124	125	126	127	128	129	130
131	132	133	134	135	136	137	138	139	140

4) Completa la tabla con los números que faltan:

101									
				115					
									130
					136				

5) Coloca en las siguientes tablas el número anterior y el posterior:

número anterior		número posterior
	115	
	120	
	125	
	130	
	135	

6) Cuenta de 2 en 2 hasta llegar al 140

102									120
				130					140

7) Cuenta de 5 en 5 hasta llegar al 140

105									140
------------	--	--	--	--	--	--	--	--	------------

NUMERACIÓN DEL 101 AL 160

101	102	103	104	105	106	107	108	109	110
111	112	113	114	115	116	117	118	119	120
121	122	123	124	125	126	127	128	129	130
131	132	133	134	135	136	137	138	139	140
141	142	143	144	145	146	147	148	149	150
151	152	153	154	155	156	157	158	159	160

8) *Completa la tabla con los números que falten:*

101									
				115					
									130
		133							
					146				
									160

9) *Coloca en las siguientes tablas el número anterior y el posterior:*

<i>número anterior</i>		<i>número posterior</i>
	160	
	145	
	123	
	110	
	152	
	116	

NUMERACIÓN DEL 101 AL 180


101	102	103	104	105	106	107	108	109	110
111	112	113	114	115	116	117	118	119	120
121	122	123	124	125	126	127	128	129	130
131	132	133	134	135	136	137	138	139	140
141	142	143	144	145	146	147	148	149	150
151	152	153	154	155	156	157	158	159	160
161	162	163	164	165	166	167	168	169	170
171	172	173	174	175	176	177	178	179	180

10) *Completa la tabla con los números que falten:*


101									
			114						
					136				
151									
				165					
									180

11) *Cuenta del 180 al 140:*

12) Cuenta de 5 en 5 hasta llegar al 180:



13) Cuenta de 10 en 10 hasta llegar al 180:



NUMERACIÓN DEL 101 AL 200

101	102	103	104	105	106	107	108	109	110
111	112	113	114	115	116	117	118	119	120
121	122	123	124	125	126	127	128	129	130
131	132	133	134	135	136	137	138	139	140
141	142	143	144	145	146	147	148	149	150
151	152	153	154	155	156	157	158	159	160
161	162	163	164	165	166	167	168	169	170
171	172	173	174	175	176	177	178	179	180
181	182	183	184	185	186	187	188	189	190
191	192	193	194	195	196	197	198	199	200

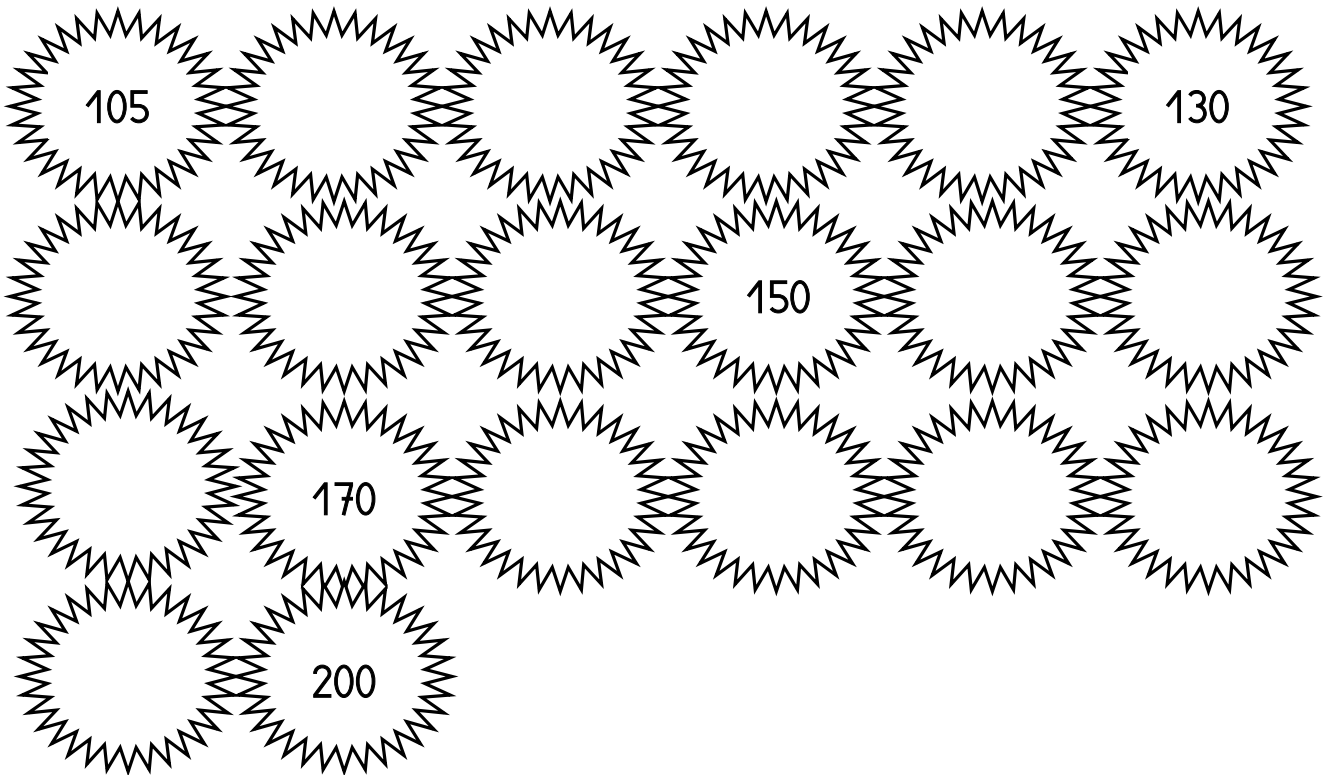
14) *Completa la tabla con los números que falten:*

101									
									120
131									
				155					
		183							
									200

15) Cuenta del 102 al 200 de 2 en 2:

102				110					120
				130					140
				160					170
				180					190
				200					

16) Cuenta de 5 en 5 desde el 100 al 200



17) Cuenta de 10 en 10 del 100 al 200:

110				
				200