

NOMBRE:

NÚMEROS HASTA EL 400



1 Completa cada tabla..

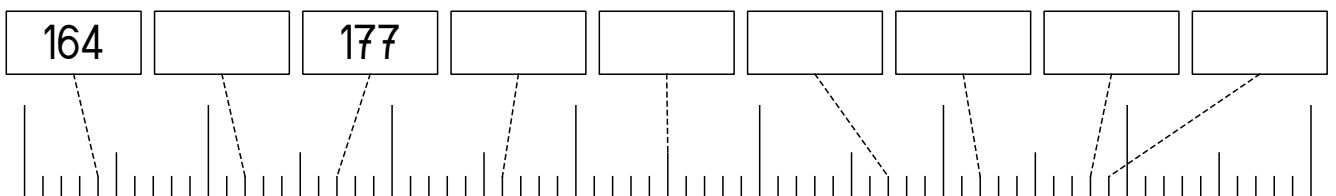
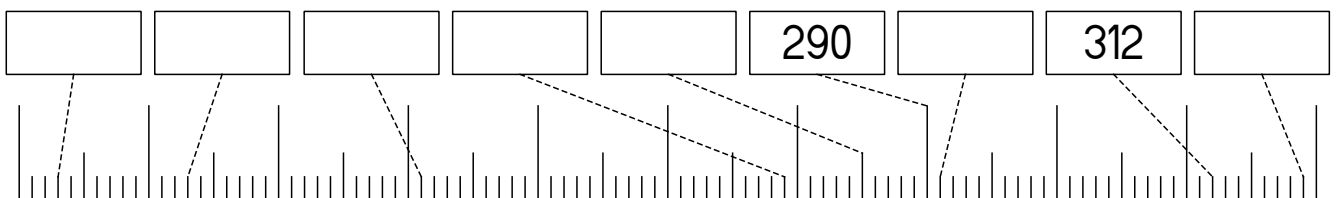
| | | | | | | | | | |
|--|--|--|--|-----|--|-----|--|-----|--|
| | | | | | | 104 | | 106 | |
| | | | | 112 | | | | | |

| | | | | | | | | | |
|--|--|--|-----|--|--|--|-----|-----|--|
| | | | 289 | | | | | | |
| | | | | | | | 303 | 304 | |

| | | | | | | | | | |
|--|-----|--|-----|--|-----|--|--|--|--|
| | | | 384 | | | | | | |
| | 392 | | | | 396 | | | | |

| | | | | | | | | | |
|-----|--|--|-----|--|-----|--|--|--|--|
| 297 | | | 300 | | | | | | |
| | | | | | 312 | | | | |

2 Completa los números que faltan en las rectas numéricas.




NOMBRE:

3 Completa la serie de números.

| | | |
|-----|--|-----|
| | | 201 |
| 209 | | 211 |

| | | |
|-----|-----|--|
| 298 | | |
| 308 | 309 | |

| | | |
|-----|-----|-----|
| | | 381 |
| 389 | 390 | |



4 Descompón estos números como en el ejemplo.



$125 = 1 \text{ c} + 2 \text{ d} + 5 \text{ u}$ $100 + 20 + 5 = 125$

$340 =$ _____

$266 =$ _____

$374 =$ _____

$301 =$ _____

5 Escribe cómo se leen:

325 _____

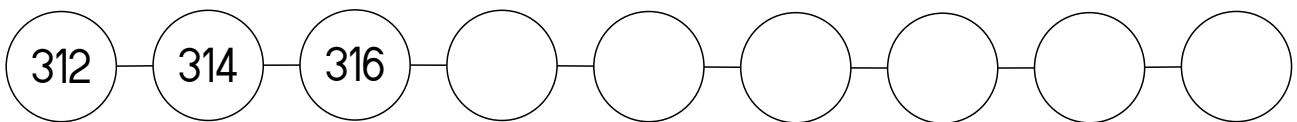
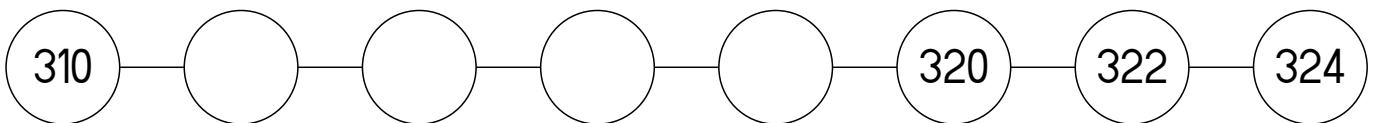
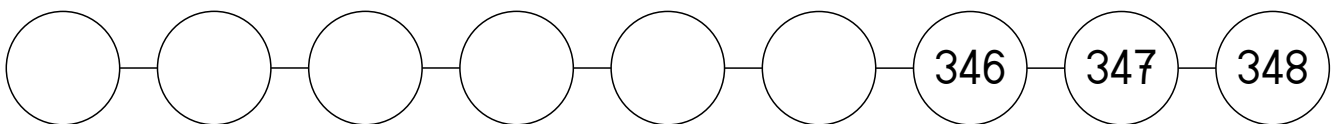
369 _____

200 _____

302 _____

395 _____

6 Completa las series.



7 Suma:

| | | | | | | | | | | | | | | | | | |
|-------|---|---|---|-------|---|---|---|-------|---|---|---|-------|---|---|---|---|---|
| 2 | 1 | 9 | | 1 | 0 | 4 | | 2 | 7 | 7 | | 4 | 0 | | | | |
| + | 1 | 5 | 3 | | + | 1 | 6 | 6 | | + | 5 | 8 | | + | 1 | 2 | 6 |
| <hr/> | | | | <hr/> | | | | <hr/> | | | | <hr/> | | | | | |
| 2 | 3 | 2 | | 2 | 4 | 3 | | 2 | 8 | 1 | | 2 | 2 | 2 | | | |
| + | 1 | 0 | 0 | | + | | 6 | | + | 7 | 4 | | + | 3 | 6 | | |
| <hr/> | | | | <hr/> | | | | <hr/> | | | | <hr/> | | | | | |

8 Resta:

| | | | | | | | | | | | | | | | | |
|-------|---|---|---|-------|---|---|---|-------|---|---|---|-------|---|---|---|---|
| 6 | 9 | | 3 | 3 | 4 | | 2 | 6 | 3 | | 2 | 2 | 6 | | | |
| - | 6 | 0 | | - | 1 | 3 | | - | 1 | 5 | 1 | | - | 1 | 1 | 3 |
| <hr/> | | | | <hr/> | | | | <hr/> | | | | <hr/> | | | | |

9 Redondea:

NÚMERO

DECENA MÁS PRÓXIMA

CENTENA MÁS PRÓXIMA

239=

371=

358=

236=

294=

342=

10 Ordena los números de mayor a menor:

321

338

299

129

15

206

289

299

149

