

## La Tierra, el Sol y la Luna


### 1. ¿Cómo es la Tierra?

La Tierra es el planeta donde vivimos.

La Tierra está formada por *agua* y *tierra firme*. También, está rodeada de *aire*.

**Agua:**

Mares y océanos




**Tierra firme:**

Continentes e islas



La Tierra está rodeada por una capa de *aire*.

Esta capa se llama *Atmósfera*.




2. ¿Cómo es el Sol

El Sol es una *estrella*.



3. ¿Cómo es la Luna?

La Luna gira *alrededor* de la Tierra.




La Luna tiene *forma de esfera* (como la Tierra).

FORMA DE ESFERA

1 Cómo es la Tierra Recortar: \_\_\_\_\_



2. El sol



3. La luna



\_\_\_\_\_ La luna tiene forma de esfera \_\_\_\_\_

## La Tierra y la Luna se mueven

### 1. La Tierra gira

AMANECER	MEDIODÍA	ANOCHECER

La Tierra gira, da vueltas sobre sí misma.

--	--

### 2. Los puntos cardinales

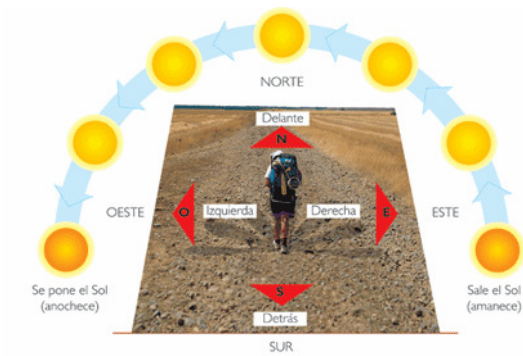
ESTE	OESTE	NORTE	SUR
Por donde vemos salir el Sol por la mañana.	Por donde se esconde por la noche el Sol	Señala el Este con la mano derecha (por donde sale el Sol). La dirección que te queda de frente es el Norte	Y la dirección que te queda de espaldas es el Sur.

# La Tierra gira




---

# Los puntos cardinales




### 3. La Tierra gira alrededor del Sol


La Tierra se mueve alrededor del Sol y tarda un año.



Las estaciones del año son primavera, verano otoño e invierno



La Tierra gira alrededor del Sol




**LAS ESTACIONES DEL AÑO**



#### 4. La Luna se mueve

También la Luna gira alrededor de la Tierra.

Tarda 28 días en dar una vuelta completa alrededor de la Tierra.



Las fases de la Luna

Las fases de la Luna	
Luna llena 1	Cuarto menguante 2
Cuarto creciente 3	Luna nueva 4





1




2




3




4

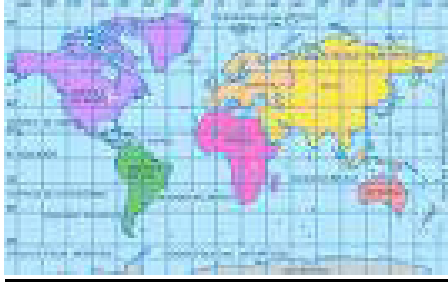


## 5. El Globo Terráqueo



También la Tierra se representa en un mapa.





Colorea el mapa

