



TEMA 10


EL AGUA

Autor pictogramas: Sergio Palao **Procedencia:** ARASAAC
<http://catedu.es/arasaac/> **Licencia:** CC (BY-NC)
Fotos e imágenes: Varios autores **Procedencia:** albumes Picasa

Ana Vallés Medrano



TEMA 10



¿Qué es?

1. Es un líquido

¿Dónde se encuentra?

2. Se encuentra en:




mar

salada



rio




lagos

dulce


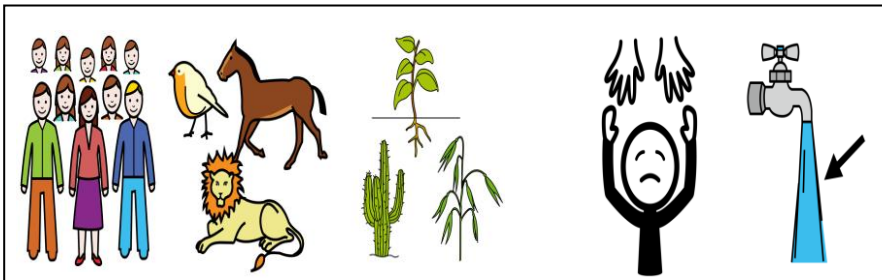


nuves



beber

regar



Personas,

animales

plantas

necesitamos el agua

para

vivir

es importante cuidarla

1.- ¿Qué es el agua?

.....

2.- ¿Dónde podemos encontrar agua?

.....

3.-¿Cómo es el agua del mar?

4.-¿Cómo es el agua de los ríos?

5.-¿Cómo es el agua de los lagos?

6.-¿Cómo es el agua de las nubes?

7.- ¿Qué agua podemos beber : el agua dulce o el agua salada?

.....

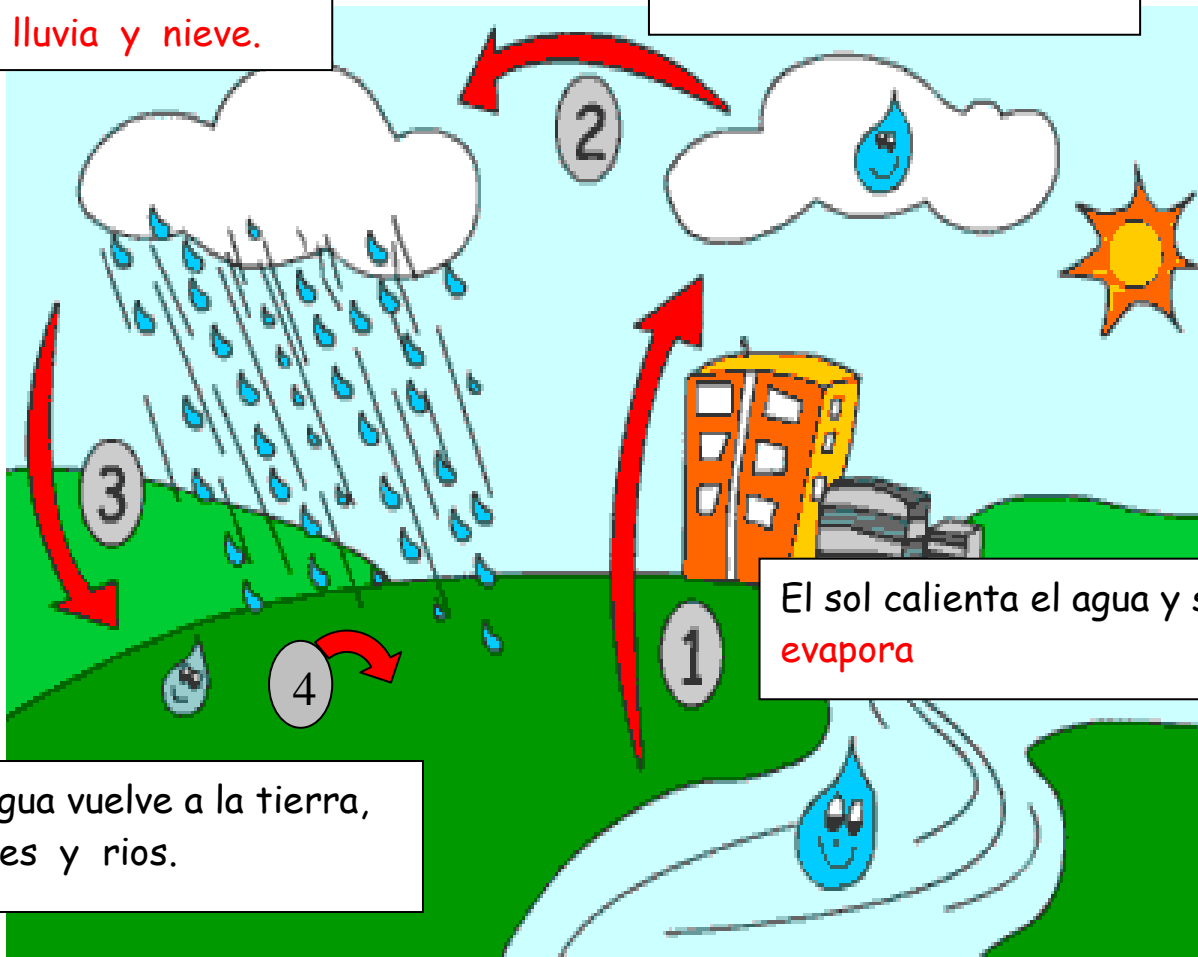
8.- ¿Quién necesita el agua para vivir?

.....

3. El ciclo del agua

De las nubes cae
lluvia y nieve.

Parte de ese vapor se
enfía y se convierte en
gotas pequeñas que
forman las **nuves**.



El sol calienta el agua y se
evapora

El agua vuelve a la tierra,
mares y rios.

1.- Ordena:



1. El calor del sol evapora el agua de los mares y rios.



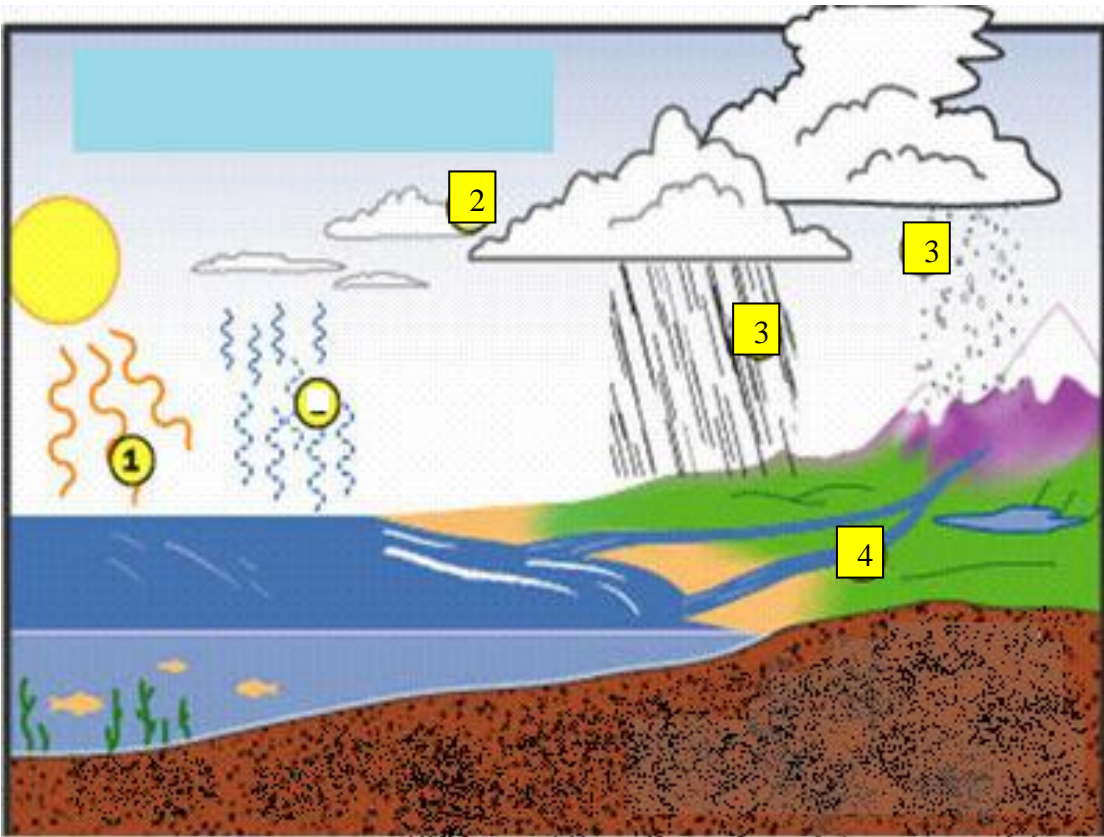
2. Se forman nubes con el agua evaporada.



3. Al enfriarse las nubes, cae el agua en forma de lluvia.



4. El agua, vuelve a los mares y rios.



2.- Escribe lo que significa cada número:


1
.....

2
.....

3
.....

4
.....

3.- Ordena



REPASO TEMA 10

1.- ¿Qué es el agua?

.....

2.- ¿Dónde podemos encontrar agua?

.....

3.-¿Cómo es el agua del mar?

4.-¿Cómo es el agua de los ríos?

5.-¿Cómo es el agua de los lagos?

6.-¿Cómo es el agua de las nubes?

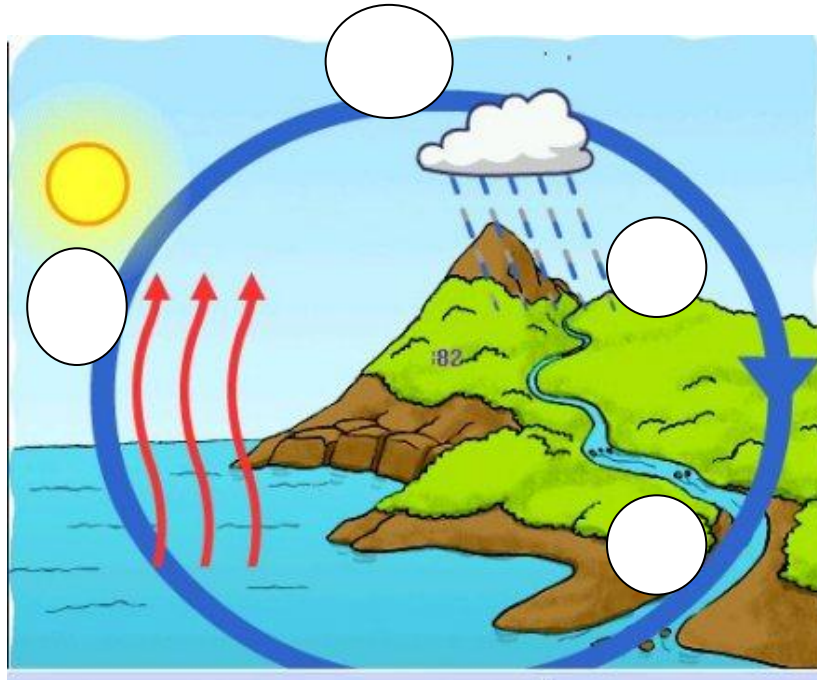
7.- ¿Qué agua podemos beber : el agua dulce o el agua salada?

.....

8.- ¿Quién necesita el agua para vivir?

.....

9.- Explica el ciclo del agua. Ordena y escribe lo que significa cada número:



1
.....

2
.....

3
.....

4
.....

EXAMEN TEMA 10. EL AGUA

Nombre:..... Curso:.....

1.- ¿Qué es el agua?

.....

2.- ¿Dónde podemos encontrar agua salada?

.....

3.- ¿Dónde podemos encontrar agua dulce?

.....

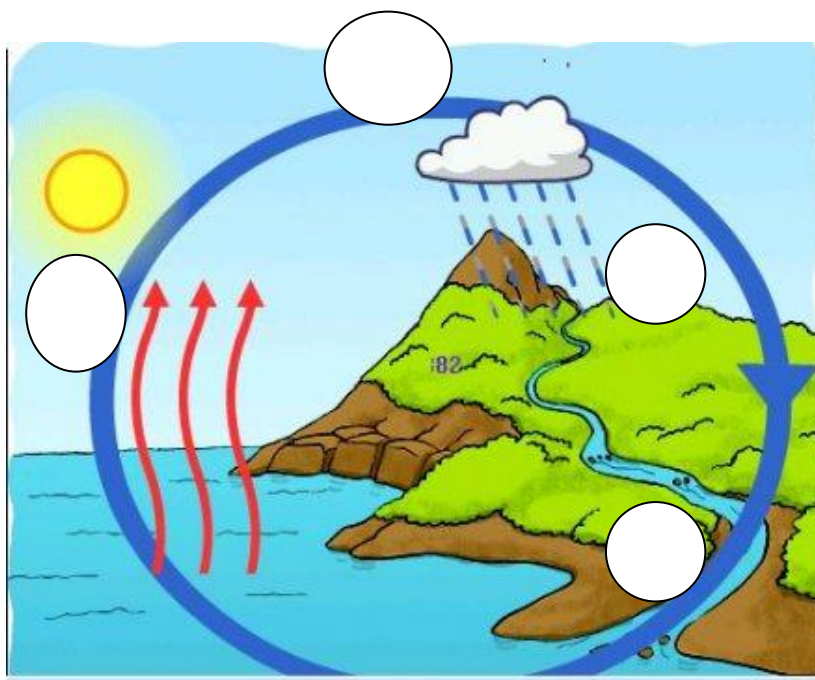
4.- ¿Qué agua podemos beber?

.....

5.- ¿Quién necesita el agua para vivir?

.....

6.- Explica el ciclo del agua. Ordena y escribe lo que significa cada número:



1

.....
.....

2

.....
.....

3

.....
.....

4

.....
.....