


## T.8 ELS MOVIMENTS DE LA TERRA

### LA TERRA



- Vivim al planeta Terra


### 1.- Moviment de la Terra: dia / nit

- La Terra gira sobre ella mateixa.

- Tarda 24 hores → 1 dia



- La cara il·luminada pel sol: **dia**
- La cara fosca: **nit**




- Parts del dia

**Alba:** el sol comença a eixir


**Migdia:** el sol està en lo més alt del cel

**Vesprada:** el sol comença a amagar-se


**Nit:** el sol no il·lumina la Terra.




alba



migdia



vesprada

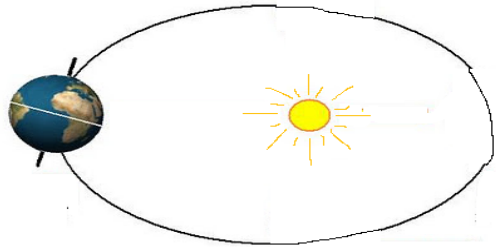


nit

## 2.- Moviment de la Terra: les estacions

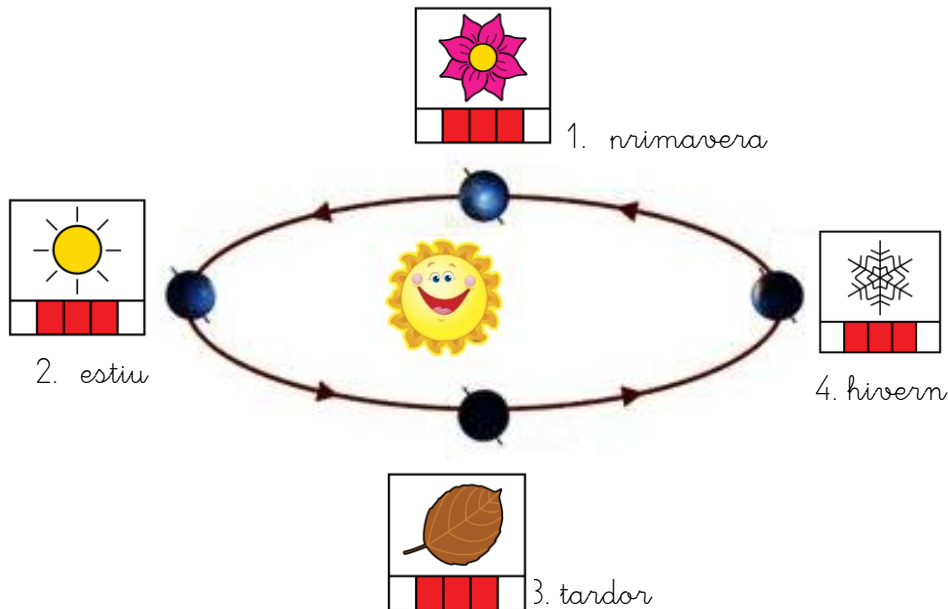
- La Terra gira al voltant del sol

○ Tarda 12 mesos → 1 any



○ **Estacions:** primavera, estiu, tardor, hivern

○ Cada estació dura uns 3 mesos.



1.- Escriu els dos moviments de la Terra

1. La Terra gira .....

2. La Terra gira .....

2.- Quan la Terra gira sobre si mateixa dona lloc a:

.....

3.- Tarda:.....

4.- Quan la Terra gira al voltant del sol dona lloc a :

.....

5.- Tarda:.....

6.- Què és el dia?.....

7.- Què és la nit?.....

8.- Les parts del dia son:

1.....:

2.....:

3.....:

4.....:

9.- Escriu les estacions:



.....



.....



.....

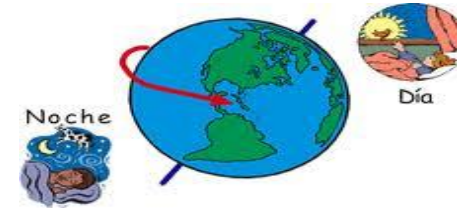


.....

10.- Quin moviment dóna lloc al dia i la nit?

.....

11.- Què és el dia?



12.- Què és la nit?

.....

13.- Quin moviment dóna lloc a les estacions?

.....

14.- Escriu les estacions:

1.



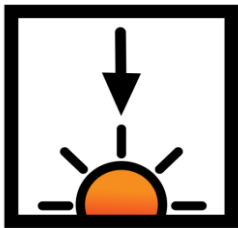

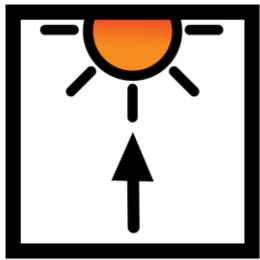
2.

3.


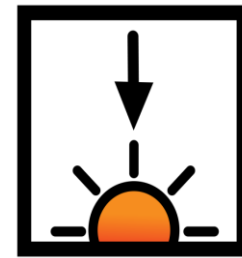

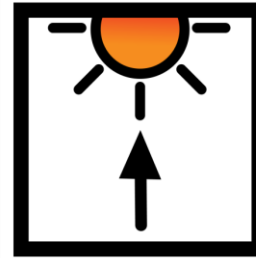


4.

15.- Escriu les parts del dia.



16.- Escriu el nom de les parts del dia:



17.- Quant dura cada estació? .....



18.- Quin moviment fa la lluna?

19.- Quant tarda?.....

20.- Quines són les fases lunars?

1..... 2.....

3..... 4.....



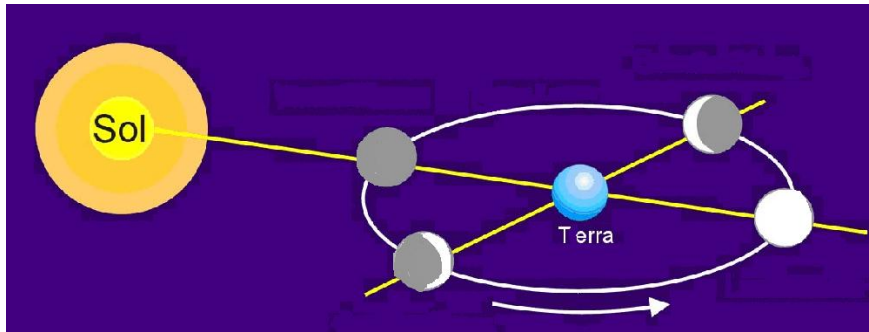
# LA LLUNA

- Gira al voltant de la Terra.




- o Tarda 28 dies en fer una volta completa.

- Veiem la part de la lluna que il·lumina el sol



→ Fases lunars



Lluna nova

Quart creixent

Lluna plena

Quart minvant