

CONTROL DE SOCIALES

NOMBRE:.....FECHA:.....

1) ¿Quién se ocupa del estudio del espacio geográfico y de los factores y elementos que actúan sobre él?

- a. El geógrafo b. El meteorólogo c. El científico

2) El conjunto que forman los astros, o cuerpos celestes, y el espacio en el que se encuentran recibe el nombre de...

- a. Meteorito b. Planeta c. Universo

3) Une con flechas:

Pequeños astros

estrellas, planetas y Satélites

Sol

único satélite de la Tierra

La Luna

cometas, asteroides y meteoritos

Sistema Solar

estrella gaseosa

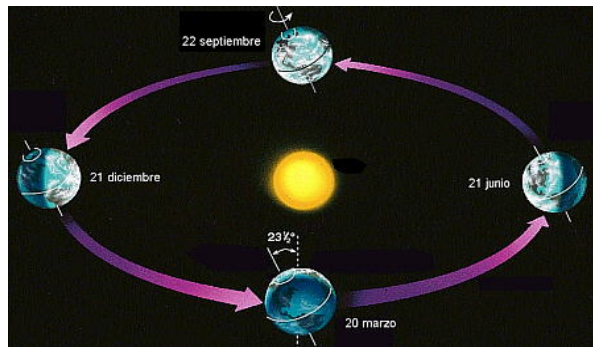
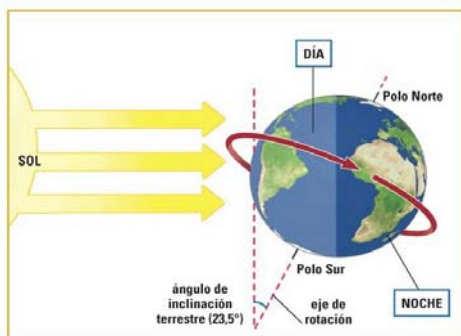
Grandes astros

uno de los sistemas de la Vía Láctea

4) Completa:

Los movimientos que realiza la Tierra son: _____

_____. El de _____
corresponde al giro que realiza nuestro planeta sobre su propio eje. Y el de _____
tiene como consecuencia la sucesión de las estaciones.



5) Completa:

_____ es el tercer planeta más cercano al Sol. Lo que le hace único es la existencia de una gran _____

_____.

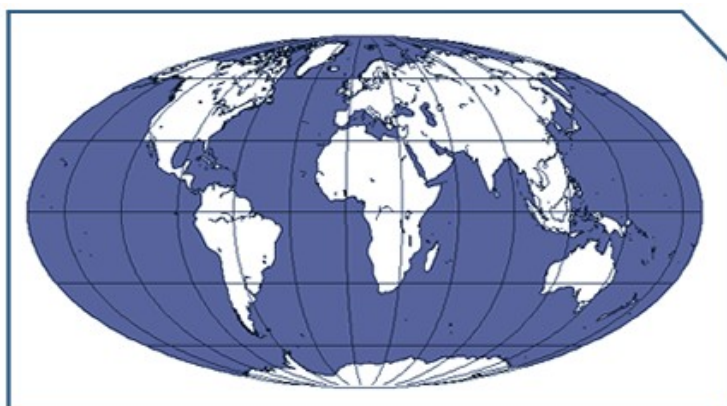
_____ es el quinto planeta del Sistema Solar en cuanto a su _____ . Su forma es _____ aunque _____

_____. Esta forma achatada recibe el nombre de _____.

6) Une con flechas:

Líneas imaginarias	líneas que se trazan sobre el globo pasando por los dos polos.
Paralelos	Este, Oeste, Norte y Sur.
Puntos cardinales	circunferencias perpendiculares a los meridianos.
Meridianos	meridianos y paralelos.
Latitud	latitud y longitud.
Coordenadas geográficas	distancia angular que posee cualquier punto de la superficie terrestre respecto al Ecuador.

7) Coloca en el siguiente globo terráqueo: el meridiano de Greenwich, el Ecuador, el Trópico de Cáncer y el Trópico de Capricornio.



8) Contesta a las siguientes preguntas:

- ¿Qué es la representación sobre una superficie plana de cualquier espacio de la tierra? _____.
- Las técnicas cartográficas más utilizadas: _____
- ¿Cuál es la ciencia que se encarga del estudio y elaboración de los mapas? _____

9) ¿Cuáles son los tipos de proyecciones cartográficas? Colócalas tomando como referencia los dibujos. (1 punto)



10) Por último dime qué tipos de mapas son los siguientes:

