


Adam es menor que su amigo Pedro. Pedro tiene 6 años. Colorea los años que puede tener Adam.



1	3	8	6	2	4	9	5	0
---	---	---	---	---	---	---	---	---

He metido seis canastas más que tú. Tu has metido menos de 4. Colorea las que pueda haber metido yo.





1	3	8	6	7	4	9	5	2
---	---	---	---	---	---	---	---	---

La cesta pesa más que la gallina. La gallina pesa 7 kg. Colorea cuánto puede pesar la cesta.



1	3	8	6	2	4	9	5	0
---	---	---	---	---	---	---	---	---

El pato tiene menos años que el león. El pato tiene 3 años. Colorea cuánto puede tener el león.



1	3	8	6	7	4	9	5
---	---	---	---	---	---	---	---