

Nom i cognoms: _____

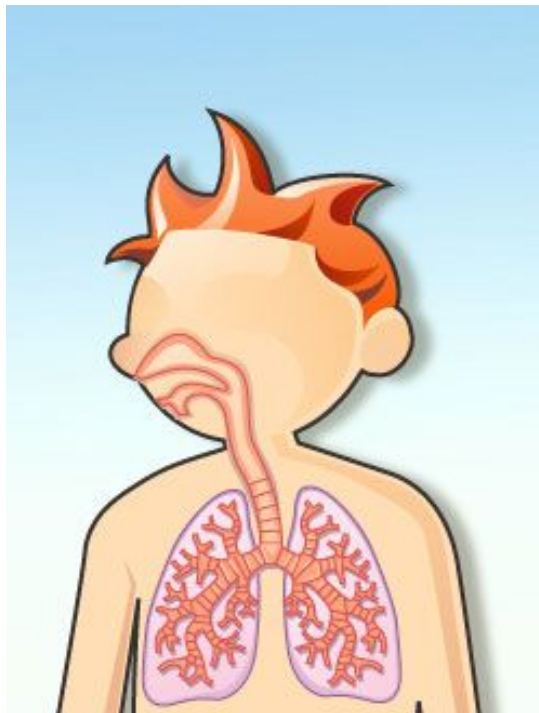
Grup: _____

APARELL RESPIRATORI

1. Quina és la **funció** de l'aparell respiratori? (1 punt)

2. Completa el dibuix indicant la localització de : (0,6 punts)

Foses nasals, faringe, laringe, tràquea, bronquis i pulmons



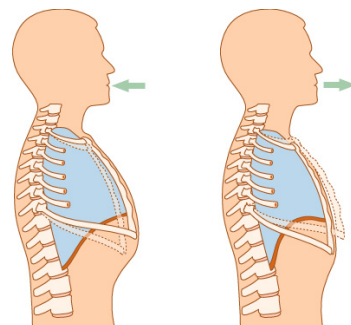
3. La respiració consta de **dos moviments**: (1 punt)

a) ENTRADA d'aire al nostre cos o

.....

b) EIXIDA d'aire del nostre cos o

.....



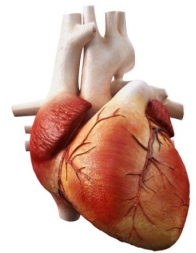
APARELL CIRCULATORI

1. Quina és la **funció de l'aparell circulatori**? (1 punt)
2. Relaciona els diferents **tipus de cèl·lules que hi ha a la sang i les seues funcions** (0,6 punts)

1	Glòbuls rojos		Ens protegeixen front les malalties
2	Glòbuls blancs		Transporten l'oxigen cap a les cèl·lules i el diòxid de carboni des de les cèl·lules
3	Plaquetes		Coagulen la sang, fent-la més densa


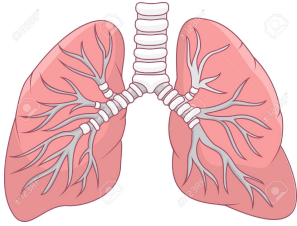
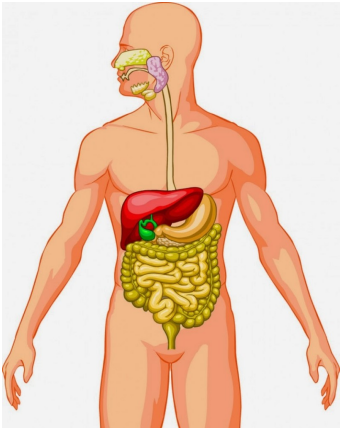
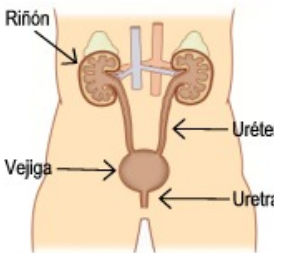
3. Subratlla la frase correcta (0,4punts)

- a) La **funció del cor** és eliminar les substàncies de rebuig del cos
- b) La **funció del cor** es impulsar la sang per tot el cos i cap als pulmons a arreplegar l'oxigen que portarà a les cèl·lules.
- c) La **funció del cor** és agafar l'oxigen de l'aire.



APARELL EXCRETOR

4. Completa

	Òrgan excretor	Funció
		Elimina substàncies a gràcies a la
		Eliminen el de la nostra respiració
		Elimina els residus que el cos no vol després de fer la digestió dels
		Elimina substàncies de rebuig a través de l'